

MUNICÍPIO CAMPINA DO SIMÃO

TURMA 1º ANO

ATIVIDADES REMOTAS QUINZENAL

REFERENTE AO 3º TRIMESTRE – 01/12/2020 À 17/12/2020



Professoras: Maria Cristiane Correia Boelter,
Lucimara Ferreira de Andrade Agostinho,
Élina Mary de Oliveira,
Edinéia Frigo,
Elisângela da Fonseca.

Dia da semana	Data	Disciplina	Carga Horária	Conteúdos	Objetivos	Referências
Terça -feira	01/12/2020	História História	02h	Data comemorativa Natal (vídeos e atividades pelo WhatsApp)	* Dar um enfoque às datas cívicas; * Compreender porque comemoramos o Natal. Atividades natalinas como enfeites de natal, cartões entre outras atividades...	https://www.educacaoetransformacao.com.br/natal
		Matemática Matemática	02 h	Números Naturais: fatos básicos de Adição e subtração.	(EF02MA05). Construir fatos básicos da adição e subtração e utilizá-los no cálculo mental ou escrito em diferentes contextos com o apoio de recursos manipuláveis e pictóricos. **Resolver e elaborar problemas de adição e subtração, utilizando estratégias e forma de registros pessoais.	https://br.pinterest.com/anamelflor/adi%C3%A7%C3%A3o-e-subtra%C3%A7%C3%A3o/
Quarta-feira	02/12/2020	Ciências Ciências	02h	Hábitos de higiene	Reconhecer os hábitos de higiene do corpo, conceituar higiene, identificar as principais atitudes de higiene pessoal e relaciona-las a manutenção de uma vida saudável, valorizando o cultivo desses hábitos.	https://www.google.com.br/search?q=CA%C3%87A+PALAVRAS+sobre+as+HIGIENE+1+ANO+ENSINO+FUNDAAMEN
		Hora atividade	02h			
Quinta-feira	03/12/2020	Geografia Geografia	02h	Lateralidade espacial.	Identificar frente, atrás, esquerda, direita, acima, embaixo, com atividades de identificar objetos, de descrever posições, dinâmicas, desenhos, leitura de imagens....	www.atividades/lateralide/2anoensinofundamenral.com.br
		Português Português	02h	- Formação de leitor; - Atribuição de sentido ao texto lido; - Finalidade do texto/função social.	* Buscar, selecionar e ler, textos que circulam em meios impressos ou digitais, de acordo com as necessidades e interesses, atribuindo sentido a sua leitura, para possibilitar a compreensão e a interpretação de diferentes gêneros discursivos.	www.misturadealegria.blogspot.com.br
Sexta-feira	04/12/2020	Hora atividade	04h			

Segunda -feira	07/12/2020	Português Português	02h	- Separação de sílabas. - Formação de palavras	* Conhecer o alfabeto; * Dominar convenções gráficas; * Compreender a natureza alfabética do sistema da escrita; * Dominar regularidades e irregularidades do ortográficas; * Segmentar palavras em sílabas, a fim de perceber essa característica de composição dos vocábulos e utilizá-las adequadamente nas reescritas.	https://atividadespedagogicasuzano.com.br/
		Matemática Matemática	02h	- Ordem crescente e decrescente. - Leitura e escrita dos numerais por extenso. - Operações de adição e subtração.	* Identificar e compreender a ordem dos numerais, seu antecessor e sucessor, escrita correta do numeral, sua ordem e resolver operações mentalmente.	https://www.educacaoetransformacao.com.br/atividades-de-matematica-1-ano/avaliacao-diagnostica-1-ano-matematica/
Terça-feira	08/12/2020	História História	02h	Data comemorativa Natal (vídeos e atividades pelo WhatsApp)	* Dar um enfoque às datas cívicas; * Compreender porque comemoramos o Natal. Atividades natalinas como enfeites de natal, cartões entre outras atividades...	https://www.educacaoetransformacao.com.br/natal
		Matemática Matemática	02h	- Situações problemas. - Gráfico.	* Fazer a leitura e a interpretação dos problemas; * Resolver problemas de adição e subtração com os significados de juntar, acrescentar, separar, retirar, comparar, utilizando diferentes estratégias de cálculo exato ou aproximado, incluindo cálculo mental. * Ler, interpretar e comparar dados apresentados em gráficos de barra.	https://www.criarreciariensinar.com/L
Quarta-feira	09/12/2020	Ciências Ciências	02h	Hábitos de higiene	Reconhecer os hábitos de higiene do corpo, conceituar higiene, identificar as principais atitudes de higiene pessoal e relaciona-las a manutenção de uma vida saudável, valorizando o cultivo desses hábitos.	https://www.google.com.br/search?q=CA%C3%87A+PALAVRAS+sobre+as+HIGIENE+1+ANO+ENSINO+FUNDAMEN
		Hora atividade	02h			

Quinta-feira	10/12/2020	Geografia Geografia	02h 02h	Lateralidade espacial. (vídeos e atividades pelo WhatsApp)	Identificar frente, atrás, esquerda, direita, acima, embaixo, com atividades de identificar objetos, de descrever posições, dinâmicas, desenhos, leitura de imagens....	www.atividades/lateralide/2anoensinofundamenral.com.br
		Português Português		- Auto ditado. - Formação de frases.	* Escrever segundo o princípio alfabético e as regras ortográficas; * Favorecer a aquisição e consolidação da base alfabética em relação ao sistema de escrita alfabética.	https://www.espacoprofessor.com/atividade-de-natal-para-alfabetizacao
Sexta-feira	11/12/2010	Hora atividade	04h			
Segunda -feira	14/12/2010	Português Português	02h	- Leitura, interpretação e cópia de texto.	* Reconhecer que textos são lidos e escritos da esquerda para a direita e de cima para baixo da página, sendo essa uma regra específica do nosso sistema linguístico, a fim de organizar e unificar a escrita; * Ler e interpretar, palavras novas com precisão na decodificação.	https://www.new-social.com/atividades-de-natal-para-o-1%c2%ba-ciclo-interpretar-textos/
		Matemática Matemática	02h	- Situações problemas.	* Fazer a leitura e a interpretação dos problemas; * Resolver problemas de adição e subtração com os significados de juntar, acrescentar, separar, retirar, comparar, utilizando diferentes estratégias de cálculo exato ou aproximado, incluindo cálculo mental.	https://www.criarrecriarensinar.com www.mestredosaber.com.br
Terça-feira	15/12/2010	História História	02h	Data comemorativa Natal (vídeos e atividades pelo WhatsApp)	* Dar um enfoque às datas cívicas; * Compreender porque comemoramos o Natal. Atividades natalinas como enfeites de natal, cartões entre outras atividades...	https://www.educacaoetransformacao.com.br/natal
		Matemática Matemática	02h	Sistema de Numeração Decimal: Números Naturais. Tabela	(EF03MA01). Ler, escrever e comparar números naturais de até a ordem de unidade de milhar, estabelecendo relações entre os registros numéricos e em língua materna. Ler, interpretar e comparar dados apresentados em tabelas.	http://atividadespara5ano.blogspot.com/2015/03/atividades-sistema-de-numeracao-decimal.html www.amoensina.com.br www.danizinhaeduca.com.br

Quarta-feira	16/12/2010	Ciências Ciências	02h	Hábitos de higiene	Reconhecer os hábitos de higiene do corpo, conceituar higiene, identificar as principais atitudes de higiene pessoal e relaciona-las a manutenção de uma vida saudável, valorizando o cultivo desses hábitos.	https://www.google.com.br/search?q=CA%C3%87A+PALAVRAS+sobre+as+HIGIENE+1+ANO+ENSINO+FUNDA+MEN
		Hora atividade	02h			
Quinta-feira	17/12/2010	Geografia Geografia	02h	Lateralidade espacial. <i>(vídeos e atividades pelo WhatsApp)</i> Reconhecimento de informações explícitas em diferentes textos.	Identificar frente, atrás, esquerda, direita, acima, embaixo, com atividades de identificar objetos, de descrever posições, dinâmicas, desenhos, leitura de imagens.... Localizar, com a mediação do professor, informações explícitas em diferentes gêneros discursivos, como requisito básico para a compreensão leitora.	www.atividades/lateralidade/2anoensinofundamental.com.br https://atividadespedagogicas.net/2014/12/atividades-de-natal-para-o-ensino-fundamental.html
		Português Português	02h	- Caça-palavras. - Cruzadinha.	* Escrever, espontaneamente ou por ditado, palavras e frases de forma alfabética – usando letras/grafemas que representem fonemas, para que se efetive a compreensão dessa relação.	https://misturadealegria.blogspot.com



MUNICÍPIO DE CAMPINA DO SIMÃO-PR

CNPJ: 01.611.489/0001-09

Rua José Pedro Seleme, N° 3516, Centro

CEP: 85.148-000 Estado do Paraná

SECRETARIA MUNICIPAL DE EDUCAÇÃO, CULTURA E ESPORTES

ESCOLA: _____

PROFESSORA: _____

ALUNO (A): _____ TURMA: 1º ANO

ATIVIDADES REMOTAS QUINZENAL

REFERENTE AO 3º TRIMESTRE – 01/12/2020 À 17/12/2020



LEIA O TEXTO COM AJUDA DO PAPAI E DA MAMÃE.



E NOITE DE NATAL

DANIELA É UMA MENINA BONITA.
ELA FAZ UM PEDIDO AO PAPAI NOEL.
DANIELA QUER GANHAR UMA BONECA.
ELA COLOCA O SAPATO NA JANELA.
DANIELA VAI PARA A CAMA.
ELA OUVE O SINO DA IGREJA:
_ DIM... DOM... DIM...DOM...
_ O POVO FALA:
_ VIVA O MENINO JESUS!
_ TODOS FICARAM FELIZES NA NOITE DE NATAL.

COPIE DA LEITURA PALAVRAS COM:

FA: _____ JA: _____

DA: _____ CA: _____

SU: _____ I: _____

ME: _____ JE: _____

NA: _____ BO: _____

1- MARQUE A RESPOSTA CERTA:

DANIELA COLOCA NA JANELA UM:

() SINO () SAPATO () SAPO

2- ELA PEDE AO PAPAI NOEL UMA:

() BOLA () PETECA () BONECA

3- RESPONDA:

-QUEM É DANIELA?

R: _____

- O QUE DANIELA QUER GANHAR?

R: _____

4- SEPRE AS SÍLABAS:

BONECA:

JANELA:

MENINA:

SAPATO:

NATAL:

PEDIDO:

DIM:

5- FORME 2 PALAVRAS COM:

PA

CA

TA

PI

6- ORDENE OS FATOS NUMERANDO OS ACONTECIMENTOS:

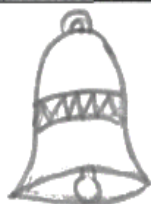
- () TODOS FICARAM FELIZES NAQUELA NOITE.
- () É NOITE DE NATAL.
- () DANIELA QUER GANHAR UMA BONECA.
- () ELA FAZ UM PEDIDO AO PAPAÍ NOEL.

7- COLOQUE O OU A:

- ___ SINO
- ___ BONECA
- ___ SAPATO
- ___ PAPAÍ NOEL
- ___ CAMA
- ___ JANELA



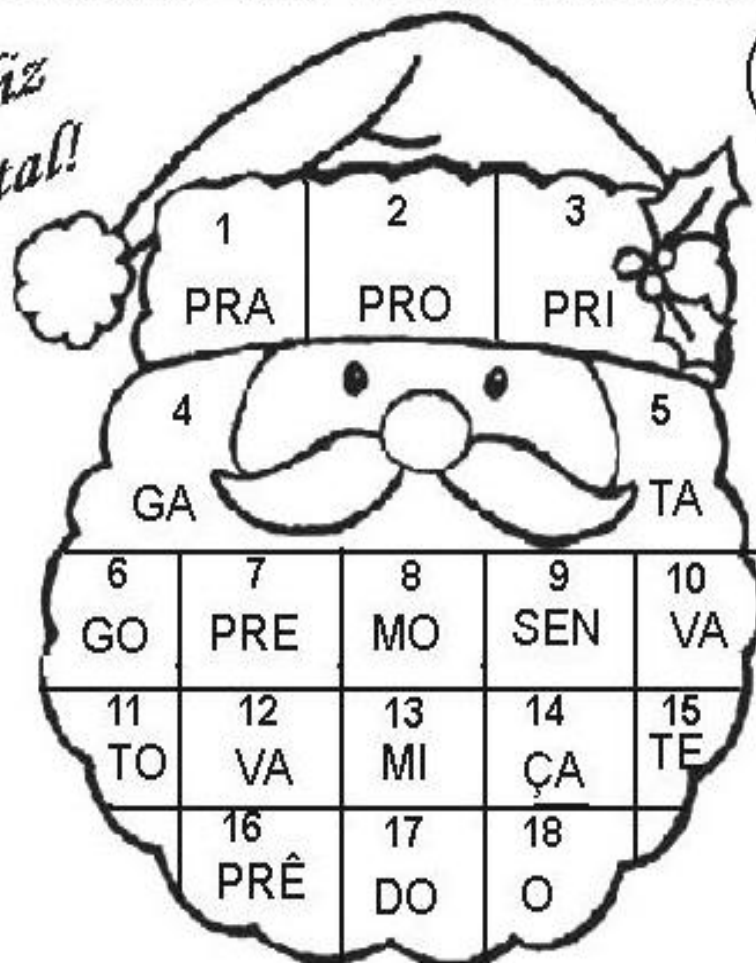
8- ESCREVA O NOME:



FORMAR PALAVRAS

Feliz Natal!

PR



16+13+18= _____

1+4= _____

7+9+15= _____

1+5= _____

3+10+17= _____

2+10= _____

7+6= _____

3+8= _____

1+14= _____

7+11= _____

1- LEIA O TEXTO ABAIXO:

O NOSSO MENINO
NASCEU EM BELÉM
NASCEU TÃO SOMENTE
PARA QUERER O BEM



2- COMPLETE O TEXTO

O MENINO

EM BELÉM

NASCEU TÃO

PARA O BEM.

3- COMPLETE A TABELA:

PALAVRA	Nº DE VOGAIS	PRIMEIRA LETRA	ÚLTIMA LETRA	TOTAL DE LETRAS
MENINO				
BELÉM				
SOMENTE				
BEM				

1- FORME FRASES COM OS SÍMBOLOS NATALINOS.












CAÇA PALAVRAS DE NATAL

1- PROCURE E PINTE NO CAÇA PALAVRAS, AS PALAVRAS INDICADAS ABAIXO:



- | | |
|------------|-----------|
| 1- NATAL | 5- MENINO |
| 2- SINO | 6- ANJO |
| 3- JESUS | 7- REI |
| 4- ESTRELA | 8- CÉU |

CRUZADINHA



• Fatos e Operações •

• Resolva os fatos e as operações:

8
+ 2

7
+ 3

4
+ 4

5
+ 1

6
+ 2

3
+ 0

4
+ 7

1
+ 2

10
+ 5

12
+ 3

11
+ 4

17
+ 2

11
- 1

8
- 6

4
- 2

5
- 3

7
- 6

9
- 5

13
- 2

16
- 4

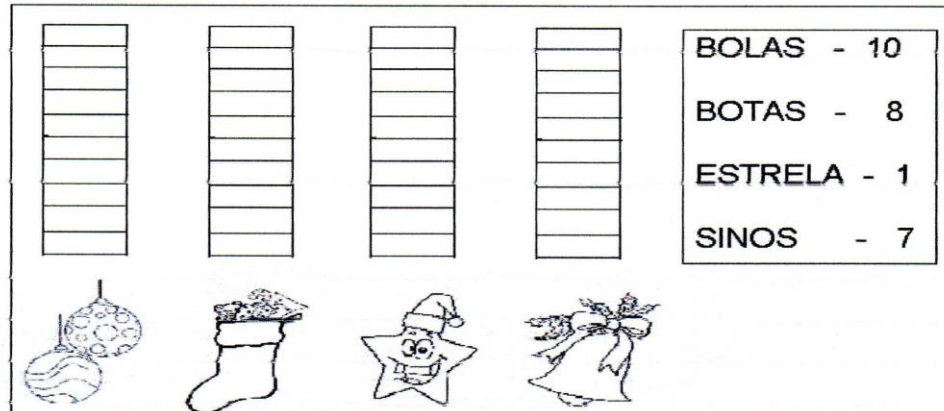
17
- 1

18
- 8

19
- 7

15
- 2

3) A PROFESSORA IVELINE COMPROU ALGUNS ENFEITERS DE NATAL PARA COLOCAR NA ÁRVORE DE NATAL DA ESCOLA. OBSERVE A TABELA E COMPLETE O GRÁFICO:



- A) QUANTOS ENFEITES ELA COMPROU? _____
- B) QUAL ENFEITE FOI COMPRADO EM MENOR QUANTIDADE? _____
- 4) O NATAL JÁ ESTÁ CHEGANDO! COMPLETE O CALENDÁRIO DO MÊS DE DEZEMBRO:

DOM	SEG	TER	QUA	QUI	SEX	SÁB

- A) QUANTOS DIAS TEM O MÊS DE DEZEMBRO: _____
- B) QUE DIA DA SEMANA É COMEMORADO O NATAL? _____

RESOLVA AS CONTINHAS:


$4+5=$	$2+3=$	$6+1=$	$7+2=$	$3+3=$
$7-3=$	$4-2=$	$9-4=$	$5-2=$	$8-4=$

COMPLETE OS NÚMEROS QUE FALTAM:

1									10
		13				17			
			24						30
				35					
		43							

RESOLVA OS PROBLEMINHAS:

1-LORENA PLANTOU 7 FLORES AMARELAS E 3 FLORES VERMELHAS.QUANTAS FLORES LORENA PLANTOU AO TODO?



2-ROGÉRIO COLHEU 9 FLORES,DEU 5 FLORES PARA SUA MÃE .COM QUANTAS FLORES ROGÉRIO FICOU?



COLOQUE OS NÚMEROS EM ORDEM.

59 47 36 45 27 19 59 47 36

--	--	--

95 25 36 58 37 22 70 18 21

--	--	--

CONTINUE A SEQUÊNCIA.

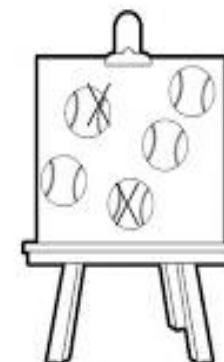


CIRCULE OS NUMERAIS NA CASA DA UNIDADE.





















96 - 15 - 36 - 21 - 71





















PATRÍCIA PINTOU 5 BOLINHAS. ARREPENDIDA APAGOU 2. QUANTAS RESTARAM?

--	--	--



DESCUBRA OS NÚMEROS QUE ESTÃO NO LUGAR DOS SÍMBOLOS.

1	2	3		5			8		
11			14		16	17		19	20
21		23		25	26		28		30
31	32		34	35		37		39	40
41	42	43			46			49	50

	<input type="text"/>		<input type="text"/>		<input type="text"/>		<input type="text"/>
	<input type="text"/>		<input type="text"/>		<input type="text"/>		<input type="text"/>
	<input type="text"/>		<input type="text"/>		<input type="text"/>		<input type="text"/>
	<input type="text"/>		<input type="text"/>		<input type="text"/>		<input type="text"/>
	<input type="text"/>		<input type="text"/>		<input type="text"/>		<input type="text"/>


PINTE A QUANTIDADE DE QUADRADINHOS REFERENTE A IDADE DE CADA CRIANÇA.



<input type="text"/>	<input type="text"/>	<input type="text"/>	<input type="text"/>	<input type="text"/>	<input type="text"/>
<input type="text"/>	<input type="text"/>	<input type="text"/>	<input type="text"/>	<input type="text"/>	<input type="text"/>
<input type="text"/>	<input type="text"/>	<input type="text"/>	<input type="text"/>	<input type="text"/>	<input type="text"/>
<input type="text"/>	<input type="text"/>	<input type="text"/>	<input type="text"/>	<input type="text"/>	<input type="text"/>
<input type="text"/>	<input type="text"/>	<input type="text"/>	<input type="text"/>	<input type="text"/>	<input type="text"/>
<input type="text"/>	<input type="text"/>	<input type="text"/>	<input type="text"/>	<input type="text"/>	<input type="text"/>
<input type="text"/>	<input type="text"/>	<input type="text"/>	<input type="text"/>	<input type="text"/>	<input type="text"/>
<input type="text"/>	<input type="text"/>	<input type="text"/>	<input type="text"/>	<input type="text"/>	<input type="text"/>
<input type="text"/>	<input type="text"/>	<input type="text"/>	<input type="text"/>	<input type="text"/>	<input type="text"/>
<input type="text"/>	<input type="text"/>	<input type="text"/>	<input type="text"/>	<input type="text"/>	<input type="text"/>

ALAN	ANA	CAIO	CARLA	GAEL	BIA
6	9	5	10	8	7


COMPLETE OS QUADROS COM AS INFORMAÇÕES PEDIDAS:



HAVIA NO CAMPO
....CACHORRINHOS.

CHEGARAM MAIS
CARNEIRINHOS.


AGORA, EXISTEM ANIMAIS
NO CAMPO.



QUANTOS URSOS?.....

QUANTOS PATOS?


QUANTOS ANIMAIS VOCÊ
ESTÁ VENDO?



QUANTOS IOIÔS?.....

QUANTAS BONECAS?
.....

QUANTOS BRINQUEDOS?
.....



QUANTAS BOLAS?.....

QUANTOS ROBÔS?

QUANTOS BRINQUEDOS?
.....

MÔNICA LEU 5 GIBIS PELA MANHÃ E 7 GIBIS A TARDE. QUANTOS GIBIS ELA LEU NO TOTAL?



CEBOLINHA E MÔNICA ESTÃO BRINCANDO JUNTOS. ELE TROUXE 3 CARRINHOS E ELA 2 BONECAS. QUANTOS BRINQUEDOS ELES TEM JUNTOS?



MÔNICA FOTOGRAFOU 5 BORBOLETAS GRANDES E CHEGARAM MAIS 4 BORBOLETAS PEQUENAS. QUANTAS BORBOLETAS VOAM AO TODO?



MAGALI ADORA SORVETE. ELA PEDIU 3 BOLAS NO SABOR DE CHOCOLATE E 4 DE MORANGO. QUANTAS BOLAS DE SORVETE ELA CHUPOU ?



