

MUNICÍPIO CAMPINA DO SIMÃO

TURMA 2º ANO

ATIVIDADES REMOTAS QUINZENAL

REFERENTE AO 3º TRIMESTRE – 01/12/2020 À 17/12/2020



Professoras:

Ana Rosa Damião

Edinéia Frigo Chandeski

Leni Hardt Cruz

Maria Cristiane Correia Boelter

Thainara K. Nascimento

Dia da semana	Data	Disciplina	Carga Horária	Conteúdos	Objetivos	Referências
Terça -feira	01/12/2020	História História	02h	Data comemorativa Natal (vídeos e atividades pelo WhatsApp)	* Dar um enfoque às datas cívicas; * Compreender porque comemoramos o Natal. Atividades natalinas como enfeites de natal, cartões entre outras atividades...	https://www.educacaoetransformacao.com.br/natal
		Matemática Matemática	02 h	Problemas envolvendo tabelas e gráficos.	(EF02MA13). Resolver e elaborar problemas a partir das informações apresentadas em gráficos.	https://amorensina.com.br/wp-content/uploads/2019/09/atividades-alfabetizaC3A7C3A3o-desafio-grC3A1fico-1-2-ano2-724x1024.png https://www.soescola.com/wp-content/uploads/2016/09/matematicapara2ano.gif
Quarta-feira	02/12/2020	Ciências Ciências	02h	Hábitos de higiene	Reconhecer os hábitos de higiene do corpo, conceituar higiene, identificar as principais atitudes de higiene pessoal e relaciona-las a manutenção de uma vida saudável, valorizando o cultivo desses hábitos.	https://www.google.com.br/search?q=CA%C3%87A+PALAVRAS+sobre+as+HIGIENE+1+ANO+ENSINO+FUNDAMEN
		Hora atividade	02h			
Quinta-feira	03/12/2020	Geografia Geografia	02h	Lateralidade espacial.	Identificar frente, atrás, esquerda, direita, acima, embaixo, com atividades de identificar objetos, de descrever posições, dinâmicas, desenhos, leitura de imagens....	www.atividades/lateralide/2anoensinofundamenral.com.br
		Português Português	02h	Estilo; Formas de representação de textos poéticos visuais e concretos	Ler e compreender, progressivamente, com certa autonomia, textos literários, de	https://br.pinterest.com/pin/517843657155448592/

					gêneros variados, a fim de desenvolver o gosto e o hábito pela leitura.	
Sexta-feira	04/12/2020	Hora atividade	04h			
Segunda - feira	07/12/2020	Português Português	02h	Reconhecimento de informações explícitas em diferentes textos.	(EF15LP03) Localizar, com a mediação do professor, informações explícitas em diferentes gêneros discursivos, como requisito básico para a compreensão leitora.	https://br.pinterest.com/pin/517843657155448592/
		Matemática Matemática	02h	Conteúdo: Problemas de divisão: ideia de distribuir e medir.	(EF02MA07). Resolver problemas de divisão (por 2, 3) que envolvam as ideias de distribuição e medida, utilizando estratégias e formas de registros pessoais, recursos manipuláveis, digitais e registros pictóricos como apoio.	www.misturadealegriablogpost.com
Terça-feira	08/12/2020	História História	02h	Data comemorativa Natal (vídeos e atividades pelo WhatsApp)	* Dar um enfoque às datas cívicas; * Compreender porque comemoramos o Natal. Atividades natalinas como enfeites de natal, cartões entre outras atividades...	https://www.educacaoetransformacao.com.br/natal
		Matemática Matemática	02h	Sistema de numeração: Números naturais	(EF03MA01) Ler, escrever e comparar números naturais de até a ordem de unidade de milhar, estabelecendo relações entre os registros numéricos e em língua materna	https://ecdn.teacherspayteachers.com/thumbitem/Treinando-numeros-ate-100-4328767-1548249407/original-4328767-2.jpg
Quarta-feira	09/12/2020	Ciências Ciências	02h	Hábitos de higiene	Reconhecer os hábitos de higiene do corpo, conceituar higiene, identificar as principais atitudes de higiene pessoal e relaciona-las a manutenção	https://www.google.com.br/search?q=CA%C3%87A+PALAVRAS+sobre+as+HIGIENE+1+ANO+ENSINO+FUNDAMEN

					de uma vida saudável, valorizando o cultivo desses hábitos.	
		Hora atividade	02h			
Quinta-feira	10/12/2020	Geografia Geografia	02h 02h	Lateralidade espacial. (vídeos e atividades pelo WhatsApp)	Identificar frente, atrás, esquerda, direita, acima, embaixo, com atividades de identificar objetos, de descrever posições, dinâmicas, desenhos, leitura de imagens....	www.atividades/lateralide/2anoen-sinofundamenral.com.br
		Português Português		Convenções da língua; Sílabas canônicas e complexas.	(EF02LP04) Ler e escrever corretamente palavras com sílabas CV, V, CVC, CCV, identificando que existem vogais em todas as sílabas, de modo que, gradativamente, apresente domínio das sílabas canônicas e não canônicas.	https://atividadespedagogicas.net/2014/12/atividades-de-natal-para-o-ensino-fundamental.html
Sexta-feira	11/12/2010	Hora atividade	04h			
Segunda-feira	14/12/2010	Português Português	02h	Ortografia; Consciência fonológica: unidades fonológicas ou segmentos sonoros.	Segmentar, com a mediação do professor e progressivamente com autonomia, palavras em sílabas, remover e substituir sílabas iniciais, mediais ou finais para criar novas palavras, a fim de compreender que este é um dos princípios para formação de novas palavras.	https://br.pinterest.com/pin/404972191491794569/
		Matemática Matemática	02h	Sistema de numeração: Números naturais	Compreender o valor posicional dos algarismos em um número, estabelecendo as relações entre as ordens: 10 unidades = 1 dezena; 10 dezenas = 1 centena; 10 centenas = 1 unidade de milhar.	https://ecdn.teacherspayteachers.com/thumbitem/Treinando-numeros-ate-100-4328767-1548249407/original-4328767-2.jpg
Terça-feira	15/10/2010	História História	02h	Data comemorativa Natal (vídeos e atividades pelo WhatsApp)	* Dar um enfoque às datas cívicas; * Compreender porque comemoramos o Natal.	https://www.educacaoetransformacao.com.br/natal

					Atividades natalinas como enfeites de natal, cartões entre outras atividades...	
		Matemática Matemática	02h	Sistema monetário brasileiro	MA20) Estabelecer a equivalência de valores entre moedas e cédulas do sistema monetário brasileiro, para resolver situações cotidianas.	https://pt.slideshare.net/ssuser858330/8-numeros-ate99
Quarta-feira	16/12/2010	Ciências Ciências Hora atividade	02h 02h	Hábitos de higiene	Reconhecer os hábitos de higiene do corpo, conceituar higiene, identificar as principais atitudes de higiene pessoal e relaciona-las a manutenção de uma vida saudável, valorizando o cultivo desses hábitos.	https://www.google.com.br/search?q=CA%C3%87A+PALAVRAS+sobre+as+HIGIENE+1+ANO+ENSINO+FUNDAMEN
Quinta – feira	17/12/2020	Geografia Geografia Português Português	02h 02h	Lateralidade espacial. <i>(vídeos e atividades pelo WhatsApp)</i> Reconhecimento de informações explícitas em diferentes textos.	Identificar frente, atrás, esquerda, direita, acima, embaixo, com atividades de identificar objetos, de descrever posições, dinâmicas, desenhos, leitura de imagens... Localizar, com a mediação do professor, informações explícitas em diferentes gêneros discursivos, como requisito básico para a compreensão leitora.	www.atividades/lateralide/2anoensinofundamental.com.br https://atividadespedagogicas.net/2014/12/atividades-de-natal-para-o-ensino-fundamental.html



MUNICÍPIO DE CAMPINA DO SIMÃO-PR

CNPJ: 01.611.489/0001-09

Rua José Pedro Seleme, N° 3516, Centro

CEP: 85.148-000 Estado do Paraná

SECRETARIA MUNICIPAL DE EDUCAÇÃO, CULTURA E ESPORTES

ESCOLA: _____

PROFESSORA: _____

ALUNO (A): _____ TURMA: 2º ANO

ATIVIDADES REMOTAS QUINZENAL REFERENTE AO 3º TRIMESTRE – 01/12/2020 à 17/12/2020



1- Augusto pulou nestes numerais: 10-12-14-16-18 e Ana pulou nestes numerais : 13-15-17-19. É correto dizer que:

- Ana pulou sem saltar numerais.
- Augusto pulou nos números ímpares.
- Ana pulou nos números maiores que 20.
- Augusto pulou nos números pares.

2- Veja a operação:

$$\begin{array}{r} 47 \\ + 32 \\ \hline \end{array}$$

- A soma desta operação é 75.
- A soma desta operação é 69.
- A soma desta operação é 79.
- Nenhuma das respostas acima.

3- Observe a sequência dos numerais:


50 - 52 - 54 - 56 - 58 A trilha é:

- 59 - 60 - 61 - 62
- 61 - 62 - 63 - 64
- 60 - 62 - 64 - 66
- 55 - 56 - 57 - 58

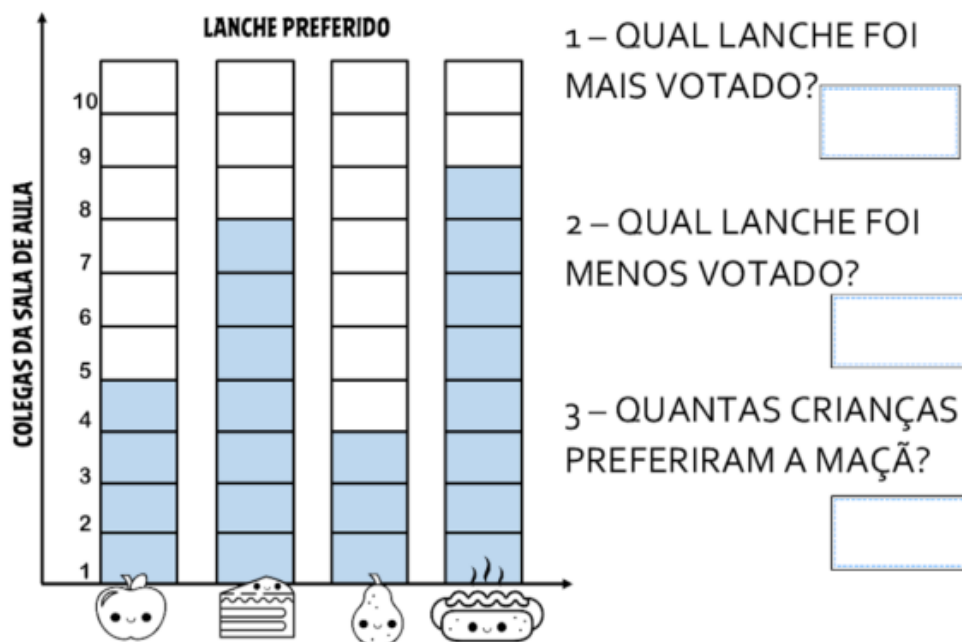
4- Resolva a operação e marque a resposta certa:

$$\begin{array}{r} 87 \\ - 35 \\ \hline \end{array}$$

- O minuendo é 35.
- O minuendo é menor.
- O resto é 35.
- O resto é 52.



AS MENINAS FIZERAM UMA PESQUISA NA SALA DE AULA PARA SABER QUAL LANCHE OS COLEGUINHAS GOSTAVAM MAIS. VEJA COMO FICOU.



1 - QUAL LANCHE FOI MAIS VOTADO?

2 - QUAL LANCHE FOI MENOS VOTADO?

3 - QUANTAS CRIANÇAS PREFERIRAM A MAÇÃ?

4 - QUANTAS CRIANÇAS PARTICIPARAM DA PESQUISA?

5 - QUAL A DIFERENÇA DE VOTOS ENTRE O CACHORRO QUENTE E A PÊRA?



Observando eu vou aprendendo!

	$4 + 4 = 8$
	$2 \times 4 = \square$
	$\begin{array}{r} 4 \\ + 4 \\ \hline \square \end{array}$
	$\begin{array}{r} \square \\ \times 2 \\ \hline \square \end{array}$

	$5 \times \square = \square$
	\square
	\square
	$\times \square$
	\square

	$\square \times \square = \square$
	\square
	\square
	$\times \square$
	\square

	$\square \times \square = \square$
	\square
	\square
	$\times \square$
	\square

$\square \times \square = \square$
\square
\square
$\times \square$
\square



1) Observe as figuras e complete as operações:

a) $2 + 2 = \underline{\quad}$	ou $2 \times 2 = \underline{\quad}$

b) $3 + 3 = \underline{\quad}$	ou $2 \times 3 = \underline{\quad}$

c) $2 \times 4 = \underline{\quad}$	

d) $2 \times 5 = \underline{\quad}$	

e) $2 \times 6 = \underline{\quad}$	

f) $2 \times 7 = \underline{\quad}$	

g) $2 \times 8 = \underline{\quad}$	

h) $2 \times 9 = \underline{\quad}$	

Represente estas divisões corretamente:




$9 \div 3 = \underline{\quad}$




$8 \div 2 = \underline{\quad}$




$15 \div 3 = \underline{\quad}$

$12 \div 2 = \underline{\quad}$

1) Dê o antecessor e o sucessor:

								
-1		+1	-1		+1	-1		+1
	41			28			67	
	53			15			85	

								
-1		+1	-1		+1	-1		+1
	11			25			44	
	94			66			70	

								
-1		+1	-1		+1	-1		+1
	8			49			51	
	99			22			45	

1) Escreva os números de 5 em 5 até 150:

5 - _____	10 - _____	
15 - _____	20 - _____	
25 - _____	30 - _____	
35 - _____	40 - _____	
45 - _____	50 - _____	
55 - _____	60 - _____	
65 - _____	70 - _____	
75 - _____	80 - _____	
85 - _____	90 - _____	95 - _____
100 - _____	105 - _____	110 - _____
115 - _____	120 - _____	
125 - _____	130 - _____	
135 - _____	140 - _____	
145 - _____	150 - _____	



2) Escreva números de 2 em 2 até 150:

3) Complete:

uma dezena = ____ uma dúzia = ____ meia dezena = ____ meia dúzia = ____
 quatro dezenas = ____ uma centena = ____ meia centena = ____
 dez dezenas = ____ uma centena e meia = ____ duas dezenas = ____
 uma centena e três dezenas = ____ uma centena e quatro unidades = ____
 uma centena, quatro dezenas e cinco unidades = ____

 **Completa as tabelas.**

1		3		5		7		9	
	12		14		16		18		20
21		23		25		27		29	
	32		34		36		38		40
41		43		45		47		49	
	52		54		56		58		60
61		63		65		67		69	
	72		74		76		78		80
81		83		85		87		89	
	92		94		96		98		100

C	D	U	Decompõe:	Leitura por ordens:
9	0		$90 + 0 = 90$	9 dezenas e 0 unidades
			$90 + 1 = 91$	___ dezenas e ___ unidade
9	2		___ + ___ +=	___ dezenas e ___ unidades
			$90 + 3 = 93$	___ dezenas e ___ unidades
9	4		___ + ___ +=	___ dezenas e ___ unidades
			___ + ___ +=	9 dezenas e 5 unidades
9	6		___ + ___ +=	___ dezenas e ___ unidades
			$90 + 7 = 97$	___ dezenas e ___ unidades
9	8		___ + ___ +=	8 dezenas e 8 unidades
			$90 + 9 = 99$	___ dezenas e ___ unidades
1	0	0	___ + ___ + ___ +=	___ centena ___ dezenas e ___ unidades

OS NÚMEROS ATÉ 69

1 O PAI DE MALU É FEIRANTE. ELE SEPAROU AS LARANJAS QUE VAI VENDER EM 4 SAQUINHOS COM 10 LARANJAS CADA UM.



SÃO 4 GRUPOS DE 10. COMPLETE:

___ + ___ + ___ + ___ OU 40 (QUARENTA) LARANJAS

2 VEJA QUANTAS ESTRELAS PEDRO DESENHOU. SÃO 4 GRUPOS DE 10 E MAIS 3 ESTRELAS.

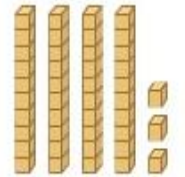


COMPLETE:

___ + ___ + ___ + ___ + ___

OU ___ + ___

SÃO QUARENTA E TRÊS ESTRELAS (43).



3 COMPLETE A SEQUÊNCIA DE 41 A 49. DEPOIS, FAÇA A LEITURA DE CADA NÚMERO COM OS COLEGAS.



41: QUARENTA E UM ___ + ___ OU ___



42: QUARENTA E DOIS ___ + ___ OU ___

40 + 3 OU 43: QUARENTA E TRÊS

40 + 4 OU ___

40 + 5 OU ___

___ + ___ OU ___

___ + ___ OU ___

OBSERVE A CENA E ESCREVA UMA HISTÓRIA:



BATE O SINO



HOJE A NOITE É BELA.
JUNTOS EU E ELA
VAMOS À CAPELA, FELIZES A REZAR.
AO SOAR O SINO, SINO PEQUENINO,
VAI O DEUS MENINO NOS
ABENÇOAR.



BATE O SINO PEQUENINO,
SINO DE BELÉM.
JÁ NASCEU O DEUS MENINO
PARA O NOSSO BEM.
PAZ NA TERRA, PEDE O SINO ALEGRE A
CANTAR.
ABENÇOE, DEUS MENINO, ESSE NOSSO LAR.

COMPLETAR:

HOJE A É

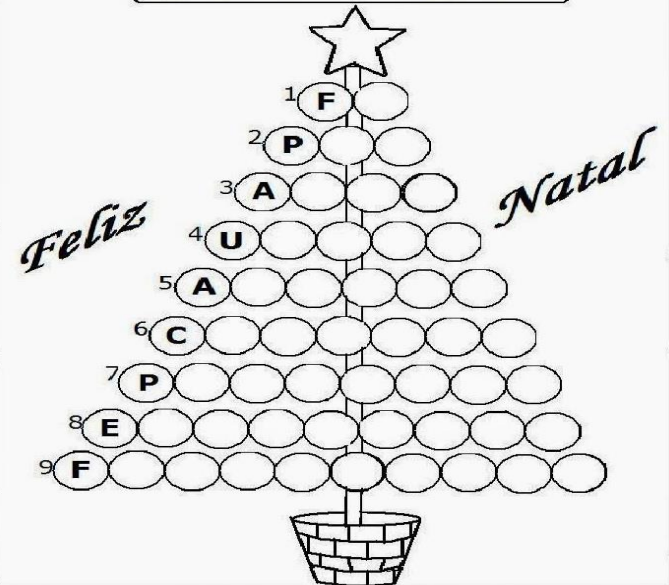
JUNTOS E

VAMOS À , FELIZES A

AO SOAR O , SINO

VAI O MENINO NOS

ÁRVORE DOS SENTIMENTOS



- 1-crença 2- tranquilidade 3- paixão
- 4-junção 5-contentamento 6- mimo
- 7-divisão 8-expectativa 9- boa sorte

QUADRINHA DA MÚSICA

FELIZ NATAL,
TUDO DE BOM,
MUITA SAÚDE E
FELICIDADE.
UM ANO NOVO
CHEIO DE PAZ,
CARINHO E
MUITA AMIZADE.



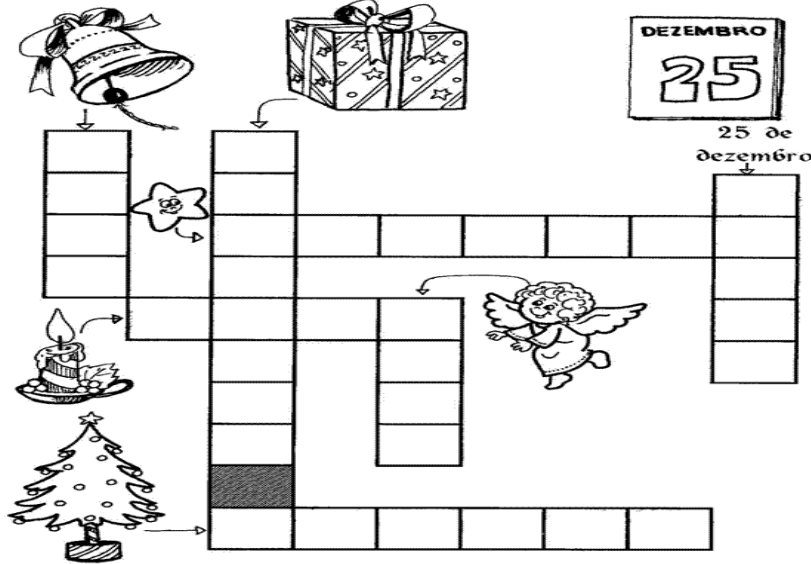
Discutir na quadrinha acima as palavras:

NATAL AMIZADE PAZ
SAÚDE FELICIDADE CARINHO

Completar:

PALAVRA	Nº DE VOGAIS	Nº DE LETRAS
NATAL		
PAZ		
CARINHO		
AMIZADE		

CRUZADINHA



BATE O SINO

BATE O SINO PEQUENINO
SINO DE BELÉM
JÁ NASCEU DEUS MENINO
PARA O NOSSO BEM

PAZ NA TERRA, PEDE O SINO
ALEGRE A CANTAR
ABENÇOE DEUS MENINO
ESTE NOSSO LAR



CAÇANDO PALAVRAS

N E E V C H R F Y A E U U A
K E J V D M O T E M F I A R
F X B E Z E L Y E Y G F U U
O J R A Z B E U H U J N F Z
O A K G S I N O E Y O O N W
C A P E L A B V R A W F F A
A L E G R E F J R D V I L Y
D E U S M Z R R I F A A N P
L L A U E Y N L E U U Y E E
U E Z F R E N O I T E V W H
T R I T L C I P A Z H F J T
T O Y Q B E L É M U Z P W K
L A R I M E N I N O U R E A
T E R R A U E J C U E G X I

DEUS
ALEGRE
BELÉM
TERRA
SINO
LAR
NOITE
PAZ
MENINO
CAPELA

- Copiar as palavras abaixo em ordem alfabética.

ESTRELA - FEITO - MAGIA
REFLETINDO - SEGUIR - OLHAR
BRILHAR - NOITE - PARA
ILUMINAR - LUZ - CÉU
AMOR - QUE - VEM



AUTO-DITADO

		
<input type="text"/>	<input type="text"/>	<input type="text"/>
		
<input type="text"/>	<input type="text"/>	<input type="text"/>
		
<input type="text"/>	<input type="text"/>	<input type="text"/>

- Copiar as palavras no lugar correto. Atenção ao número de letras.

	PAZ AMOR SINOS				CRISTO ESTRELA PRESENTE			
3								
4								
5								
6								
7								
8								

- Ligar a palavra ao desenho.

- SINOS
- ESTRELAS
- PRESENTES
- VELAS



UM FELIZ NATAL

Poesia de criança:

Neste Natal
quero ganhar:
brilho, amor e alegria.
O brilho das estrelas,
o amor de Jesus,
a alegria de partilhar
e poder amar.

Quero formar:
uma família unida,
amizades queridas.

Quero ser:
uma boa amiga,
uma criança feliz.

Quero colocar:
Um feliz Natal!

Maria Carolina M. de Castro

Atividades:

1) O que Carolina quer ganhar neste Natal?

2) Como ela quer que sua família seja?

3) Como ela quer ser?

5) Como gostaria que sua família fosse?



PARA RECORTAR!

Feliz Natal

