



MUNICÍPIO DE CAMPINA DO SIMÃO-PR

CNPJ: 01.611.489/0001-09

Rua José Pedro Seleme, N° 3516, Centro

CEP: 85.148-000 Estado do Paraná

SECRETARIA MUNICIPAL DE EDUCAÇÃO, CULTURA E ESPORTES

Escola Municipal do Campo Vital Brasil – EIEF e EJA

Rua Norberto Barbosa, 2235 – Vila Vieira -

CEP 85148-000 - Campina do Simão – PR

PLANO QUINZENAL- 01/12/2020 ao dia 17/12/2020 – 3º Trimestre

TURMA: 4º ANO B

PROFESSORA: HELEMARA F. S. ZOLET

DIA DA SEMANA	DA DO MÊS	DISCIPLINA	CARGA HORÁRIA	CONTEÚDOS	OBJETIVOS	REFERÊNCIAS
Terça-feira	01/12/2020	Mat. Mat.	2 horas	<ul style="list-style-type: none">• Operações (EF04MA06) (EF04MA03)	<ul style="list-style-type: none">• Utilizar, as propriedades das operações para resolver diferentes estratégias de cálculos.	http://www.diaadiaprofessor.com.br Pinterest.com CREP
		Geo. Geo.	2 horas	<ul style="list-style-type: none">• Estado do Paraná e seus Municípios. (EF04GE05)	<ul style="list-style-type: none">• Identificar no Mapa o seu Município suas fronteiras e sua hierarquia, localizando seus lugares de vivência.	http://www.diaadiaprofessor.com.br CREP Pinterest.com
Quarta- feira	02/12/2020	Hora Atividade	4 horas	Elaboração das atividades		
Quinta-feira	03/12/2020	Oficina de Português	1 hora	<ul style="list-style-type: none">• Construção do Sistema alfabético e da ortografia. (EF04LP01) (EF35LP12)	<ul style="list-style-type: none">• Entender a construção do sistema alfabético brasileiro e a ortografia, escrevendo palavras de forma autônoma.	Pinterest.com Novaescola.org.br CREP
		Oficina de Mtemática	1 hora	<ul style="list-style-type: none">• Algoritmos da Multiplicações (EF04MA04) (EF04MA05)	<ul style="list-style-type: none">• Utilizar as propriedades das operações para realizar e desenvolver diferentes estratégias de cálculos.	Pedagogiccos.blogspot.com CREP
		Ciências	2 Horas	<ul style="list-style-type: none">• A Nossa Alimentação	<ul style="list-style-type: none">• Conhecer e discutir sobre uma alimentação equilibrada e saudável	CREP Pedagogiccos.blogspot.com Novaescola.org.br

					para a manutenção da saúde.	
Sexta-feira	04/12/2020	Português	2 horas	<ul style="list-style-type: none"> Organização da sequência na história. (EF15LP14) 	<ul style="list-style-type: none"> Relacionar e construir a sequência e o sentido da história relacionando imagens e palavras. 	Pinterest.com Pedagogiccos.blogspot.com Novaescola.org.br CREP
		Matemática	2 horas	<ul style="list-style-type: none"> Situações problemas. (EF04MA06) (EF04MA03) (EF04MA05) (EF04MA04) 	<ul style="list-style-type: none"> Ler e interpretar as situações problemas para realizar e desenvolver diferentes estratégias de cálculos. 	Ensinarhoje.com Pedagogiccos.blogspot.com CREP
Segunda-feira	07/12/2020	Port. Port.	2 horas	<ul style="list-style-type: none"> Leitura e interpretação de texto em quadrinhos. (EF04LP01) (EF35LP12) (EF15LP12) 	<ul style="list-style-type: none"> Ler, Interpretar, compreender, perceber e fazer inferências com diferentes gêneros textuais verbal e não verbal com todo um contexto social, histórico e cultural do cotidiano. 	Pinterest.com CREP
		Hist. Hist.	2 Horas	<ul style="list-style-type: none"> Os Símbolos Natalinos e seus significados. (EF01HI08) 	<ul style="list-style-type: none"> Reconhecer o significado das comemorações e festas escolares, diferenciando-as das datas festivas comemoradas no âmbito familiar ou da comunidade. 	CREP Pedagogiccos.blogspot.com Portaldoprofessor.mec.gov.br
		Mat. Mat.	2 horas	<ul style="list-style-type: none"> Situações problemas. (EF04MA27) (EF04MA28) (EF04MA04) (EF04MA05) 	<ul style="list-style-type: none"> Utilizar as propriedades das tabelas e das operações para realizar e desenvolver diferentes estratégias 	Pedagogiccos.blogspot.com CREP

Terça-feira	08/12/2020				de cálculos em situações problemas.	
		Geo. Geo.	2 horas	<ul style="list-style-type: none"> • Mapa do Brasil Clima tempo. (EF04GE05) 	<ul style="list-style-type: none"> • Identificar as características do tempo nos Estados no mapa do Brasil. 	Pinterest.com CREP
Quarta-feira	09/12/2020	Hora Atividade	4 horas	Elaboração das atividades remotas		
Quinta-feira	10/12/2020	Oficina de Português	1 hora	<ul style="list-style-type: none"> • Construção do Sistema alfabético e da ortografia. (EF04LP01) (EF35LP12) 	<ul style="list-style-type: none"> • Entender a construção do sistema alfabético brasileiro e a ortografia, escrevendo palavras de forma autônoma. 	Novaescola.org.br Pedagogiccos.blogspot.com CREP
		Oficina de Matemática	1 hora	<ul style="list-style-type: none"> • Situações problemas envolvendo medidas de tempo, medidas de massa e sequência numérica. 	<ul style="list-style-type: none"> • Ler e interpretar diferentes situações problemas para realizar e desenvolver diferentes estratégias de cálculos. 	Pedagogiccos.blogspot.com CREP Pinterest.com
		Ciências	2 horas	<ul style="list-style-type: none"> • Retomada de conteúdo sobre Alimentação Saudável. Tipos de alimentos e suas funções no organismo. 	<ul style="list-style-type: none"> • Compreender a partir de conhecimentos básicos algumas formas de alimentação saudável para o bom funcionamento do corpo. 	pinterest.com Novaescola.org.br CREP
Sexta-feira	11/12/2020	Português	2 horas	<ul style="list-style-type: none"> • Leitura e interpretação de texto. 	<ul style="list-style-type: none"> • Ler, Interpretar, compreender, perceber e fazer inferências com diferentes gêneros textuais verbal e não verbal com todo um contexto social, histórico e cultural do cotidiano 	Novaescola.org.br Pinterest.com CREP

		Matemática	2 horas	<ul style="list-style-type: none"> Situações problemas envolvendo tabela e gráficos. (EF04MA27) (EF04MA28) 	<ul style="list-style-type: none"> Utilizar as propriedades das tabelas e gráficos para realizar e desenvolver diferentes estratégias de cálculos. 	<p>Pinterest.com Novaescola.org.br CREP</p>
Segunda-feira	14/12/2020	Port. Port.	2 horas	<ul style="list-style-type: none"> Construção do Siatema alfabético e da ortografia. Cruzadinha natalina. (EF04LP01) 	<ul style="list-style-type: none"> Grafar palavras utilizando regras de correspondência fonema- grafema regulares diretas e contextuais. 	<p>Pedagogiccos.blogspot.com CREP Pinterest.com</p>
		Hist. Hist.	2 horas	<ul style="list-style-type: none"> História da Árvore de Natal. 	<ul style="list-style-type: none"> Reconhecer o significado das comemorações e festas escolares, diferenciando-as das datas festivas comemoradas no âmbito familiar ou da comunidade. 	<p>CREP Pedagogiccos.blogspot.com Portaldoprofessor.mec.gov.br</p>
Terça-feira	15/12/2020	Mat. Mat.	2 horas	<ul style="list-style-type: none"> Situações problemas (EF04MA03)(EF04MA06) (EF04MA05)(EF04MA04) 	<ul style="list-style-type: none"> Utilizar as propriedades das situações problemas para desenvolver estratégias de cálculos. 	<p>CREP Pedagogiccos.blogspot.com Portaldoprofessor.mec.gov.br</p>
		Geo. Geo.	2 horas	<ul style="list-style-type: none"> Mapa do Brasil (EF04GE05) 	<ul style="list-style-type: none"> Identificar as Regiões no mapa brasileiro. 	<p>Novaescola.org.br Pinterest.com CREP</p>
Quarta-feira	16/12/2020	Hora Atividade	4 horas	Atividades remotas		
		Por.	1 hora	<ul style="list-style-type: none"> Leitura e interpretação de texto. 	<ul style="list-style-type: none"> Ler, Interpretar, compreender, perceber e fazer inferências com diferentes gêneros 	<p>pinterest.com Novaescola.org.br CREP</p>

Quinta-feira	17/12/2020				textuais verbal e não verbal com todo um contexto social, histórico e cultural do cotidiano	
		Mat.	1 hora	<ul style="list-style-type: none"> • Operações (EF04MA03)(EF04MA06) 	<ul style="list-style-type: none"> • Resolver e elaborar diferentes estratégias de cálculos através das operações. 	Pinterest.com CREP
		Ciências	2 horas	<ul style="list-style-type: none"> • Pirâmide Alimentar. 	<ul style="list-style-type: none"> • Utilizar os dados da pirâmide alimentar para elaborar um cardápio saudável para seu organismo. 	pinterest.com Novaescola.org.br CREP



MUNICÍPIO DE CAMPINA DO SIMÃO
SECRETARIA MUNICIPAL DE EDUCAÇÃO CULTURA E ESPORTES
Av. João Ferreira Neves, 3416, Centro, CEP: 85.148-000
Estado do Paraná

ESCOLA: _____

PROFESSOR(A): _____

ALUNO(A): _____

ATIVIDADES REMOTAS QUINZENAL
REFERENTE AO 3º TRIMESTRE – 01/12/2020 À 17/12/2020
4º ano

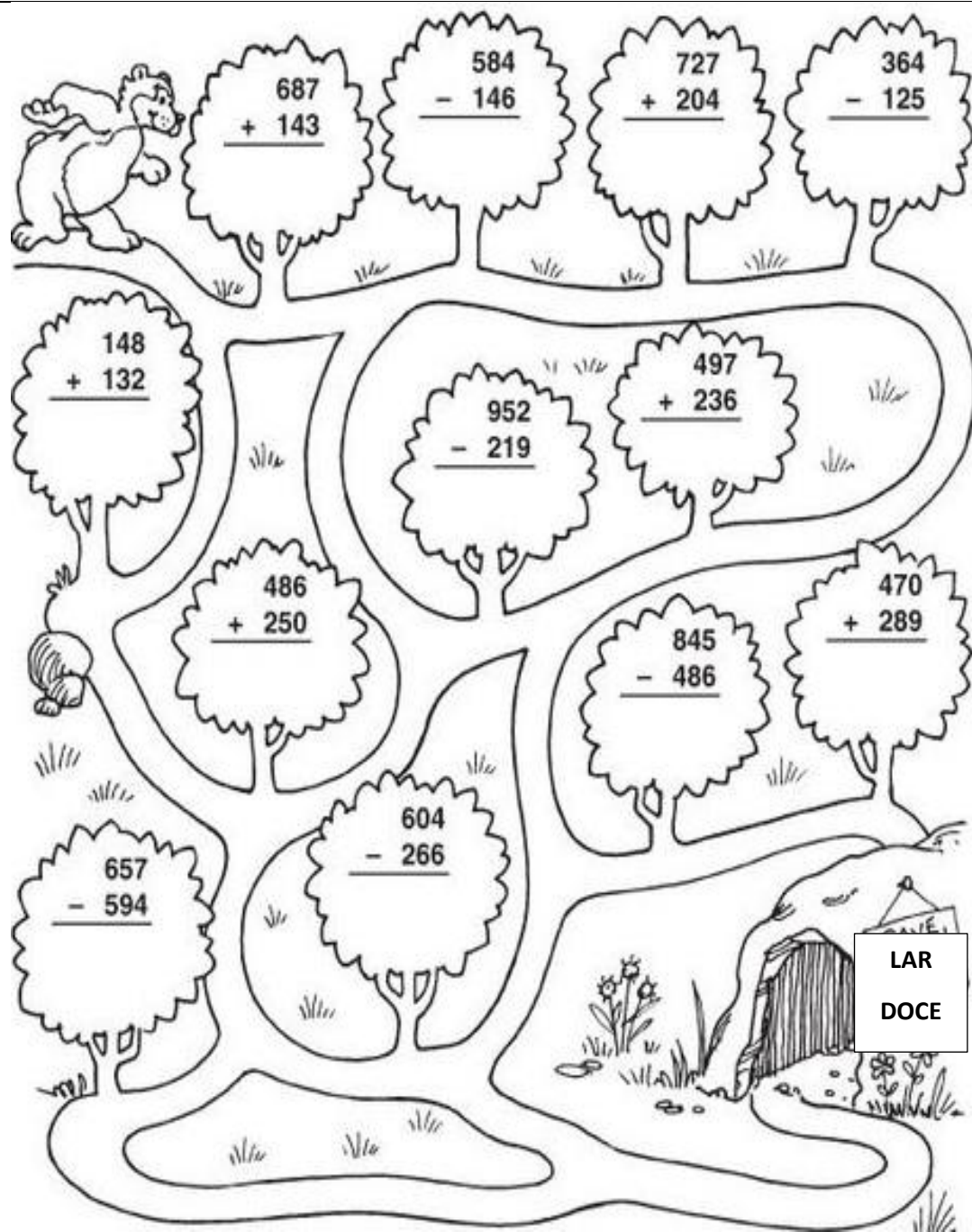


Matemática – aula dia 01/12/2020

1- Resolva as operações abaixo com muita atenção.
Depois ajude o urso a chegar na sua casa pelo caminho certo.

Geografia – aula dia 01/12/2020

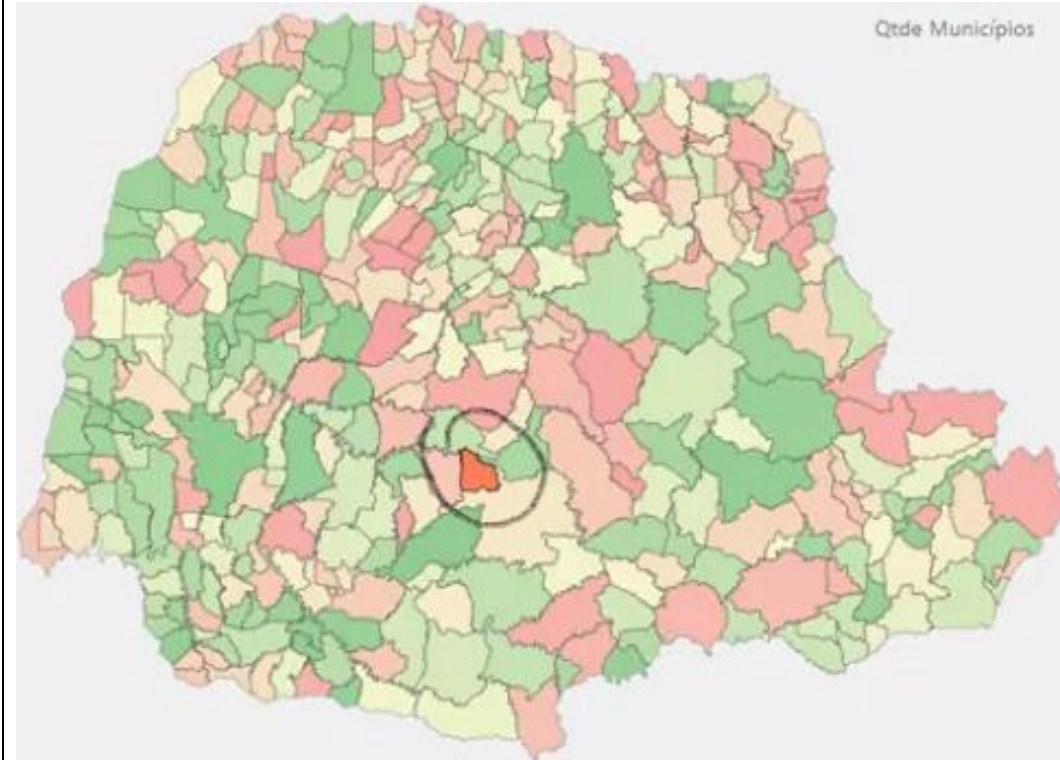
1- Observe o mapa abaixo e responda as perguntas.



Português – aula dia 03/12/2020

1- Complete a cruzadinha com os nomes dos desenhos abaixo, usando S ou SS.

O mapa abaixo representa o Estado do Paraná que fica localizado na Região Sul do Brasil. Dentro do Estado fica o Município de Campina do Simão, cidade onde fica a Escola onde estudamos, seu nome é Escola Municipal do Campo Vital Brasil EIEF e EJA, situada na Rua Norberto Barbosa nº 2235, Vila Vieira, CEP 85148-000.



a- Qual é o nome do Estado onde moramos?


b- Qual é o nome do Município onde estudamos?

c- Onde fica localizado o Estado do Paraná e o Município de Campina do Simão no Brasil?

d- Qual é o nome da Escola onde você estuda?

Matemática – aula dia 03/12/2020

1- Resolva as operações e complete a cruzadinha com os resultados.



Ciências – aula dia 03/12/2020

1- Leia o texto abaixo sobre Alimentação. Depois encontre no diagrama abaixo as

- A) $568 \times 4 =$
- B) $656 \times 4 =$
- C) $248 \times 9 =$
- D) $536 \times 4 =$
- E) $82 \times 5 =$
- F) $442 \times 4 =$
- G) $130 \times 6 =$
- H) $420 \times 2 =$
- I) $2\ 431 \times 2 =$
- J) $124 \times 3 =$
- K) $1\ 023 \times 3 =$
- L) $44 \times 8 =$
- M) $35 \times 4 =$
- N) $33 \times 6 =$
- O) $105 \times 4 =$

Arme aqui nesse espaço as operações.

Português – aula dia 04/12/2020

1- Complete o texto sobre o Palhaço Espinafre com as palavras do quadro abaixo,

palavras em destaque.

A Nossa Alimentação

Para que tenhamos uma boa saúde e uma boa defesa contra as doenças que atacam o nosso organismo, precisamos ter uma boa alimentação. Alimentação saudável e equilibrada

- ▶ A carne, os ovos, o leite e seus derivados são necessários ao crescimento e fortalecimento dos ossos e dentes.
- ▶ As raízes, os grãos, as frutas e as verduras contêm vitaminas e sais minerais. As vitaminas e os sais minerais fornecem energia e protegem o nosso corpo contra doenças.
- ▶ Nossos alimentos podem ser de origem animal, vegetal ou mineral. E todos são indispensáveis ao nosso organismo.



Os alimentos reguladores têm como nutrientes as **vitaminas** e o **minerais** encontrados em **verduras**, **frutas** e **legumes** que fortalecem o sistema imunológico e regulam a digestão e o bom funcionamento dos intestinos. Os alimentos energéticos são os alimentos que fornecem energia ao organismo, são ricos em açúcares (carboidratos) e gorduras (lipídios). Por exemplo: pão, massas, arroz, azeite, manteiga, etc. É importante manter sempre uma alimentação equilibrada e saudável para que o nosso corpo não fique doente.

V	E	G	E	T	A	L	G	I	F	P
I	H	Q	W	X	H	M	R	O	R	R
T	D	F	J	C	Q	L	Ã	R	U	O
A		A		A	W	E	O	A	T	T
M	I	N	E	R	A	I	S	Í	A	E
I	Z	I		N	Ç	T	O	Z	S	G
N	X	M	O	E	L	E	P	E	U	E
A	V	A	V	G	W	R	L	S	R	M
S	M	L	O	B	R	G		Y	U	Y
C	R	E	S	C	I	M	E	N	T	O
W	O	R	T	A	L	E	N	Ç	Q	V
K	Z	V	E	R	D	U	R	A	S	H

Matemática- aula dia 04/12/2020

1- Resolva as situações problemas abaixo com atenção.

e de um título a ele. Depois pinte o palhaço, usando cores alegres.

LARANJADA – DIVERTIDAS – LISTRADAS – PINTADO – DIVERTIDO – ALEGRE –
LARGAS – COMPRIDOS – BICUDOS – COLORIDAS – GRANDE.

- Espinafre é um palhaço _____ e bem _____.
- Gosta de usar roupas _____ e tem um sorriso bem _____.
- Com sua cabeleira _____ ele encanta a platéia, fazendo travessuras e contando piadas _____.
- Todos acham muita graça em Espinafre porque ele usa calças _____, sapatos _____ e _____.
- Sua camisa é _____ e seu rosto é _____.
- Espinafre é mesmo um palhaço _____.



Português – aula dia 07/12/2020

1- Leia e observe a história em quadrinhos abaixo, depois responda.

a- Jussara tem 108 figurinhas, Luciana tem 154 e Adriana tem 230. Quantas figurinhas elas tem juntas?

- () 154 figurinhas
- () 492 figurinhas
- () 669 figurinhas.

b- Um livro tem 356 páginas. Quantas páginas haverá em 7 livros iguais?

- () 2.294
- () 2.429
- () 2.492

c- Em uma subtração, o minuendo é 527 e o subtraendo é 342. Qual será o resto desta operação?

- () 205
- () 185
- () 95

d- Uma costureira gastará 96 metros de fita para bordar uma colcha. Quantos metros de fita ela gastará em 9 colchas iguais?

- () 864 metros
- () 1.404 metros
- () 325 metros

e- Em uma caixa há 250 bombons. Desses 96 são de morango, 39 de brigadeiro e o restante é de amendoim. Quantos bombons de amendoim há na caixa?

- () 68
- () 95
- () 125

História – aula dia 07/12/2020

1- Leia quais os significados dos Símbolos Natalinos e pinte-os.



a- De qual assunto se trata o texto?

- () A briga entre as amigas.
- () A Guerra dos celulares.
- () Quem vai atender o telefone antes.

b- A discussão entre as amigas é sobre o que?

- () Para mostrar qual é a função do celular.
- () Sobre a briga entre os telefones celulares.
- () Para mostrar qual era o melhor aparelho de celular entre as duas.

Matemática – aula dia 08/12/2020

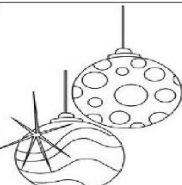
1- Resolva as situações problemas abaixo.



Simboliza o caminho
feito pelos magos



Simboliza o Reino
de Deus, lembra
que Cristo é a luz
do mundo.



Simboliza o amor, o
perdão, as boas
ações, a esperança,
os dons, os talentos
e a compreensão.




Simboliza as
oferendas feitas
a Jesus pelos
Reis Magos.




Simboliza o nascimento
do Menino Jesus.



Simboliza a Caridade do Papa
Nicolau, que dedicou a sua vida
em ajudar quem passava
dificuldades nas vésperas do Natal




Simboliza a presença de
Cristo que é a luz do
mundo.



Simboliza que a nossa
vida é um ciclo de vida e
morte. Simboliza a vida
eterna e a paz.



Simboliza a
comunicação com
Deus.

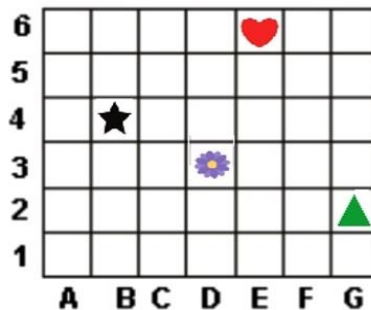


Simboliza o anúncio a
humanidade do
nascimento de Jesus
Cristo.

Geografia – aula dia 08/12/2020

1- Observe o mapa abaixo e responda.

a- Observe a imagem e marque a opção que indica a localização do coração.



- () G 2
- () E 6
- () D 3
- () B 4

e- Marque a opção que indica a escrita correta por extenso do número **3.047**.

- () Trezentos e setenta e quatro.
- () Três mil quatrocentos e quarenta e sete.
- () Três mil e quarenta e sete.

f- Contando de dúzia em dúzia, Luiza pulava corda. Descubra. Qual será o próximo número que ela irá contar?



- 46
- 58
- 70
- ?

- () 72
- () 82
- () 84
- () 92

g- Observe a sequência abaixo e marque a opção que indica os números que faltam para que ela fique completa.



- () 350 e 500
- () 450 e 550
- () 350 e 500
- () 250 e 350

Português – aula dia 10/12/2020

1- Observe a cena abaixo e escreva o nome de cada figura numerada no número



a- Qual país é representado pelo mapa acima?

b- O que o mapa do Brasil acima está mostrando?

c- De qual dia foi a previsão a previsão do tempo no mapa?

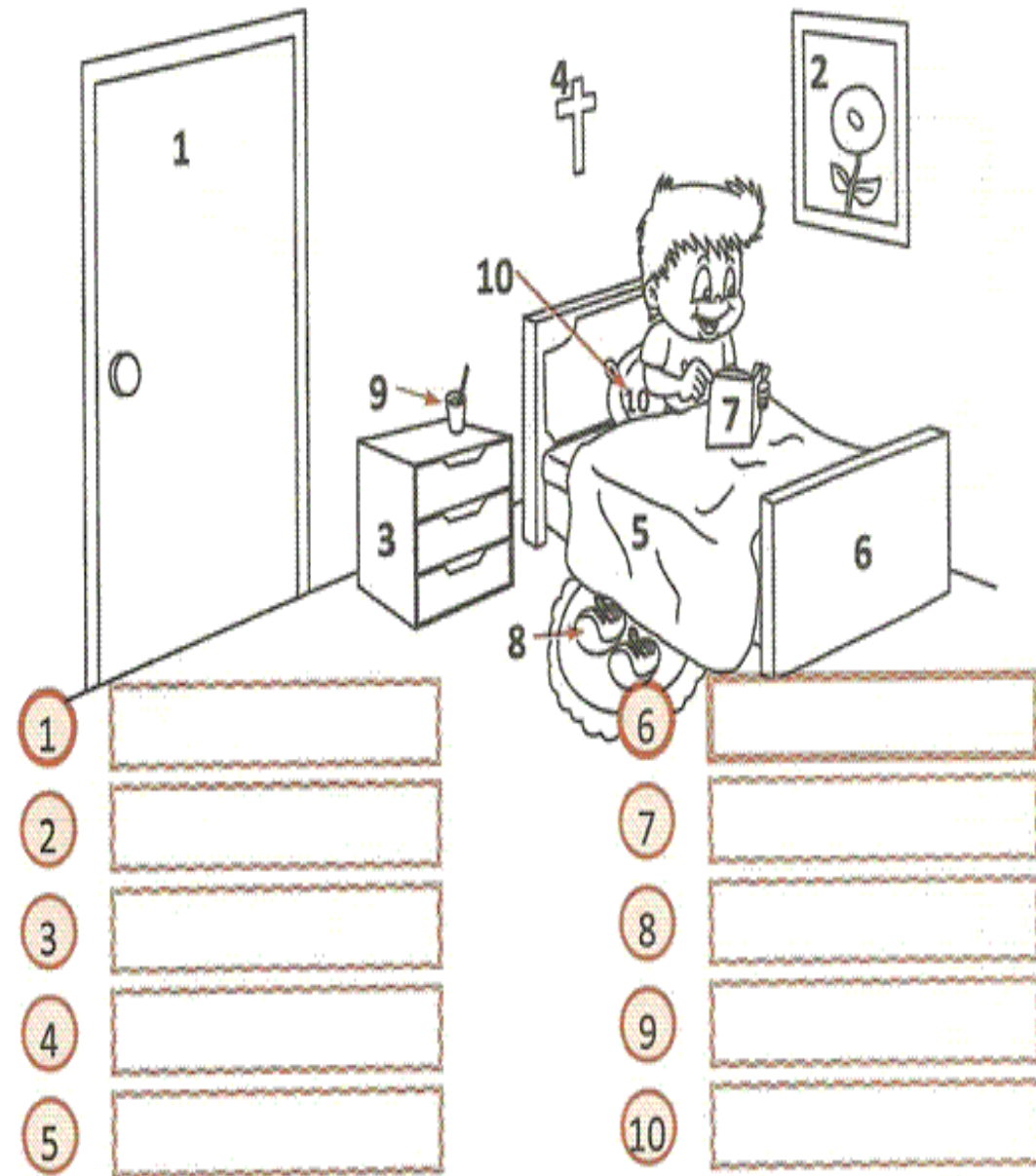
d- Como estava o clima no Paraná no dia 15 de novembro?

Matemática – aula dia 10/12/2020

1- Resolva abaixo com atenção.



correspondente.



Ciências – aula dia 10/12/2020

1- Observe a tabela abaixo com atenção.

a- No número qual a posição que indica a ordem do número 5?

- () Unidade simples
- () Centena simples
- () Dezena simples

b- Dona Joana, deixou o seu filho Jonas brincar na casa de um colega e combinou de buscá-lo as 3 horas da tarde. Qual relógio indica o horário em que a mãe irá buscar o menino?



(A)



(B)



(C)



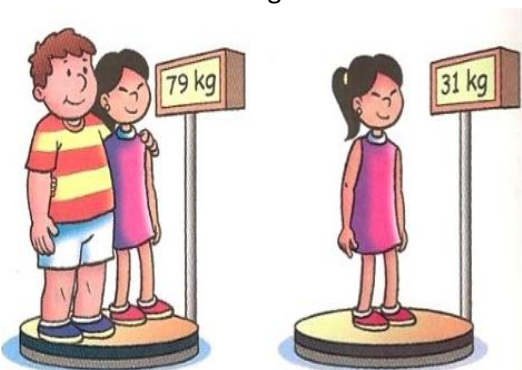
(D)

c- A professora do 4º ano ditou os números abaixo e pediu para os alunos organizarem os na ordem crescente. Marque a sequência correta dos números.

507	699	243	144
	65	350	

- () 699 – 65 – 144 – 350 – 507 – 243
- () 65 – 144 – 243 – 350 – 507 – 699
- () 507 – 699 – 350 – 243 – 144 – 65


d- Observe a imagem e descubra a diferença de peso entre as duas crianças.



- () 48 quilos
- () 68 quilos
- () 79 quilos
- () 64 quilos

Nutrientes	Principais funções	Exemplos de fonte
Proteínas	Repõem células e tecidos e são responsáveis pelo crescimento, pela construção do corpo.	Leite, ovos, carne, feijão e peixe.
Carboidratos	Principal fonte de energia para o corpo.	Pão, massa, arroz, farinha, doces e batata.
Gorduras ou lipídios	Considerados também fonte de energia, ficam armazenados no organismo para suprir a falta de carboidratos, se estes são ingeridos em menor quantidade.	Manteiga, óleo, gorduras e margarina.
Vitaminas	Ajudam no bom funcionamento do organismo.	Leite, peixe, verduras, legumes e frutas.
Sais minerais	Desempenham funções vitais em nosso corpo, como formação de ossos e dentes, contração muscular e coagulação do sangue.	Leite, peixe, algumas verduras, ovos e sal de cozinha.

a- Quais são os nutrientes essenciais para o bom funcionamento do nosso organismo?



Sabão em pó FOFINHO
Limpa melhor e com mais carinho

O sabão em pó Fofinho limpa mais que os outros.
A sua forma contem mais amaciante que os sabões líquidos.
Sua embalagem é maior que a dos concorrentes.
Seu poder de limpeza é melhor que dos sabões em barra.

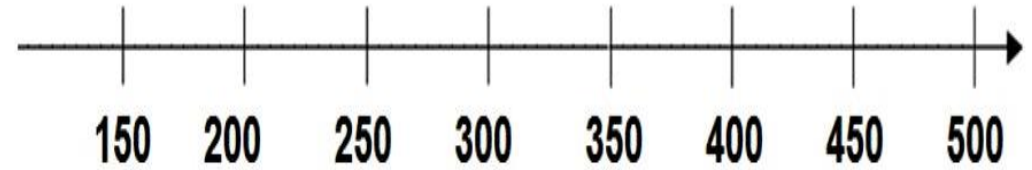
a- Sobre o que se trata o texto acima?

- () Sabão em pó Fininho.
- () Sabão em pó Limpinho.
- () Sabão em pó Fofinho.

b- Como é o sabão em pó do anúncio?

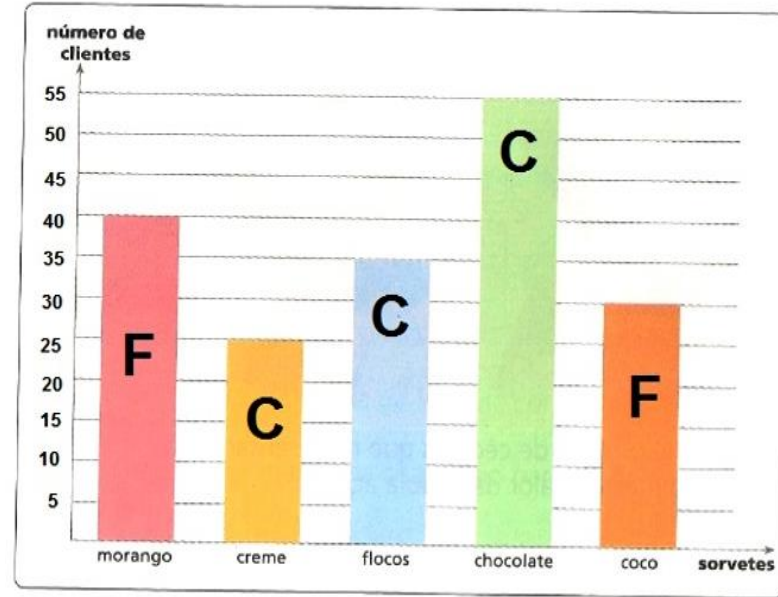
- () Mais perfumado e com maior teor de limpeza que os outros sabões.
- () Limpa mais e com mais carinho, contém mais amaciante, sua embalagem é maior e seu poder de limpeza é melhor que os outros sabões.
- () Limpa melhor, macies profunda, embalagem reciclável, mais barato que os outros sabões do mercado.

a- O número abaixo **380** está entre quais números da reta numérica abaixo?



- () 150 a 200 () 250 a 300 () 350 a 400 () 450 a 500

b- Uma sorveteria fez uma pesquisa para saber a preferência de sorvete dos clientes. Observe o gráfico e marque a opção que mostra quantos clientes preferem sorvete Cremoso.



LEGENDA

Fruta = F

Cremoso = C

- () 55 clientes () 115 clientes () 185 clientes () 70 clientes

sobre o Natal.

COMPLETE A CRUZADINHA:

1. FIGURA NATALINA FORMADA POR MARIA, JOSÉ E O MENINO JESUS.

2. OBJETO METÁLICO COM PÊNDULO QUE AO SER BALANÇADO FAZ BARULHO.

3. EM LUGARES MUITO FRIOS, AS CRIANÇAS MONTAM ESTA FIGURA COM NEVE.

4. PLANTA DECORADA COM BOLAS E ENFEITES NA ÉPOCA DO NATAL.

5. OBJETO CIRCULAR DECORATIVO USADO PARA ENFEITAR AS PORTAS.

6. ANIMAL MAMÍFERO QUE É CONHECIDO POR PUXAR O TRENÓ DO PAPAÍ NOEL.

7. MEIO DE TRANSPORTE PUXADO POR ANIMAIS PRÓPRIO PARA NEVE.

8. DIZEM QUE ELE VIVE NO CÉU. SUA IMAGEM TEM ASAS, USA ROUPAS LONGAS E TEM UMA AURÉOLA.

9. HOMEM IDOSO, COM BARBA E BIGODE BRANCOS, QUE USA ROUPA VERMELHA.

10. PEQUENO SER COM ORELHAS PONTUDAS, QUE AJUDA PAPAÍ NOEL A CONSTRUIR BRINQUEDOS.

Jesus.

Perto do estábulo onde dormia o Menino Jesus, havia três árvores, uma oliveira, uma palmeira e um pinheiro. Vendo as pessoas que passavam por debaixo de seus galhos para verem Jesus, as árvores também quiseram dar alguma coisa a Jesus.

A Palmeira, disse: eu vou dar a minha palma a maior e a mais bela, para ela abane docemente o bebê.

A oliveira, disse: eu vou apertar minhas olivas, o óleo servirá para amaciar os seus pezinhos.

O pinheiro, disse: vou dar eu mesmo, pois permaneço verde o ano todo mesmo no frio mais intenso, demonstrando a prosperidade, junto as estrelas do céu para iluminar suas noites.

2- Faça a correspondência da primeira coluna com a segunda.

Menino Jesus

Até hoje, enfeitam com luzes o pinheirinho, na véspera de Natal!

Anjinho

Sentiu-se muito infeliz, por nada ter para oferecer ao Menino Jesus.

Estrelinhas

Seus olhinhos brilharam ao ver aquela árvore tão linda!

Pinheirinho

Teve pena do pinheirinho e chamou as estrelas para iluminá-lo.

Pessoas

Desceram com boa vontade e deixaram o pinheirinho todo iluminado.

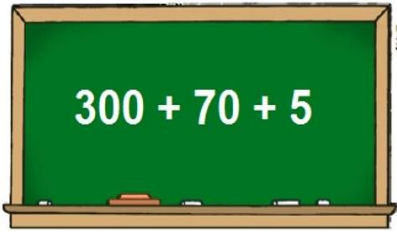
Matemática – aula dia 15/12/2020

1- Resolva abaixo com atenção.

Geografia – aula dia 15/12/2020

1- Complete as frases corretamente.

a- Observe a decomposição de um número no quadro e marque a opção que indica a sua escrita numérica.



- 30705
- 3705
- 375
- 30075

b- Quero comprar três brinquedos: um carrinho de R\$52,00, uma boneca de R\$85,00 e um avião de R\$37,00. Quanto vou gastar no total da compra dos brinquedos?

- R\$194,00
- R\$ 134,00
- R\$174,00

c- Marcelo comprou 5 kits de gorros natalinos para comemorar o Natal com sua família. Quanto Marcelo pagou pelos kits?

- R\$363,00
- R\$100,00
- R\$250,00

d- O dono do supermercado tinha no estoque 285 panetones, comprou mais 76. Quantos panetones tem agora no estoque?

- 461
- 661
- 361

Você Mora:

a- Num país chamado?

b- Num Estado chamado?

c- Num Município chamado?

d- Você mora na sua cidade?

Na área Rural

Na área urbana

em um bairro

no centro



TIRINHA NATALINA



Copyright ©1999 Maurício de Sousa Produções Ltda. Todos os direitos reservados.

6229



a- O tema desta tirinha é sobre?

- () Páscoa
- () Natal
- () Animais

b- Qual foi o personagem que pediu ajuda?

- () Mônica
- () Cascão
- () Cebolinha

c- O meio de transporte usado pelo Papai Noel é?

- () Trenó
- () Carroça
- () Burrinho

d- O Cebolinha troca o R pela letra L, então escreva as palavras abaixo corretamente.

Tulma _____

Quelem _____

Calas _____

Tlenó _____

Blaço _____

Blinçar _____

Mentila _____

Obrigado _____

1.

$$\begin{array}{r} 455 \\ -268 \\ \hline \end{array}$$

2.

$$\begin{array}{r} 783 \\ -534 \\ \hline \end{array}$$

3.

$$\begin{array}{r} 923 \\ -673 \\ \hline \end{array}$$

4.

$$\begin{array}{r} 774 \\ -609 \\ \hline \end{array}$$

5.

$$\begin{array}{r} 523 \\ -273 \\ \hline \end{array}$$

6.

$$\begin{array}{r} 643 \\ -398 \\ \hline \end{array}$$

7.

$$\begin{array}{r} 523 \\ -265 \\ \hline \end{array}$$

8.

$$\begin{array}{r} 540 \\ -264 \\ \hline \end{array}$$

9.

$$\begin{array}{r} 928 \\ -674 \\ \hline \end{array}$$

1- Observe a Pirâmide Alimentar abaixo.

Veja como você pode ter uma alimentação saudável durante o seu dia, a pirâmide alimentar nos ensina qual são as quantidades que devemos consumir dos alimentos.

• PIRÂMIDE ALIMENTAR •

"FOI COM A FINALIDADE DE ORIENTAR PESSOAS A RESPEITO DE UMA ALIMENTAÇÃO SAUDÁVEL QUE A PIRÂMIDE ALIMENTAR FOI CRIADA, EM 1992, PELO DEPARTAMENTO DE AGRICULTURA DOS ESTADOS UNIDOS (USDA).!"



"OS ALIMENTOS EM SUA BASE DEVEM SER CONSUMIDOS EM MAIOR QUANTIDADE! NO TOPO DA PIRÂMIDE DEVEM SER CONSUMIDOS MODERADAMENTE OU EVITADOS! OS EXERCÍCIOS FÍSICOS E O CONTROLE DE PESO, ALIADOS AO CONSUMO DE ÁGUA, FAZEM PARTE DA BASE DA PIRÂMIDE!"

Neste Natal

leve em seu coração...



