



**MUNICÍPIO DE CAMPINA DO SIMÃO**  
**SECRETARIA MUNICIPAL DE EDUCAÇÃO CULTURA E ESPORTE S**  
**Av. João Ferreira Neves , 3416, Centro, CEP: 85.148 -000**  
**Estado do Paraná**

ESCOLA: MUNICIPAL DO CAMPO VITAL BRASIL

PROFESSORA: CLEVIANE DOCHVAT TERRES

ATIVIDADES REMOTAS QUINZENAL

REFERENTE AO 1º TRIMESTRE 26/04/2021 À 07 /05/2021

**SALA DE RECURSO MULTIFUNCIONAL**

**TURMAS A B, D, E, F**



Núcleo Regional de Educação – Guarapuava-PR

Secretaria Municipal de Educação

Escola Municipal do Campo Vital Brasil- EIEF

Município de Campina do Simão-PR

E-mail prof: dochvattercleviane @gmail.com

**Plano Quinzenal 26/04/2021 á 07/05/2021**

**Turma: A, B, D, E, F \_\_\_\_\_**

**Professora: \_\_\_Cleviane Dochvat Terres**

Dia da semana	Data	Disciplina	Carga horária	Conteúdos	Objetivos	Referências
Segunda -feira	26/04/2021	Português Matemática Turma A e D Turma E	08h	Ditado numérico, forme palavras de acordo com os números iguais.  Leitura e interpretação  Resolva as divisões	Ampliar o vocabulário e escrever corretamente  Promover a compreensão.  Desenvolver o raciocínio lógico.	Pinterest  <a href="https://aprenda-muito.blogspot.com/2015/12/atividades-de-contagem-de-silabas-e.html">https://aprenda-muito.blogspot.com/2015/12/atividades-de-contagem-de-silabas-e.html</a>
Terça-feira	27/04/2021	Português Matemática Turma A e D Turma E	08h	Conte e circule o número correto.  Complete as palavras com P e B.  Resolva o gráfico	Promover a compreensão  Ampliar o vocabulário e escrever corretamente  Interpretar gráficos	Pinterest  <a href="https://amorensina.com.br/atividades-de-matematica-para-o-1-ano/">https://amorensina.com.br/atividades-de-matematica-para-o-1-ano/</a>

Quarta-feira	28/04/2021	Português Matemática  Turma B e F	08h	Resolva o gráfico  Resolva as divisões	Interpretar os gráficos  Desenvolver o raciocínio lógico.	Pinterest  <a href="https://alfakids.org/atividade-de-matematica-trabalhando-com-os-resultados/">https://alfakids.org/atividade-de-matematica-trabalhando-com-os-resultados/</a>
Quinta-feira	29/04/2021	Matemática  Turma B e F	08h	Leitura e interpretação  Resolva o gráfico	Promover a compreensão  Desenvolver o raciocínio lógico.  Interpretar gráficos	Pinterest
Sexta-feira	30/04/2021	Hora atividade	08h			
Segunda-feira	03/05/2021	Português  Turma A e D  Turma E	08h	Junte as sílabas e escreva os nomes dos desenhos.  Produção de texto	Ampliar o vocabulário  Escrever com clareza e sequências de ideias.	Pinterest

Terça-feira	04/05/2021	Matemática Português Turma A e D Turma E	08h	Resolva o gráfico Cruzadinha RR	Desenvolver o raciocínio lógico. Interpretar gráficos. Ampliar o vocabulário Escrever as palavras na grafia correta. Promover a compreensão	Pinterest <a href="https://paraisodoeducando.blogspot.com/2017/07/cruzada-ss-rr">https://paraisodoeducando.blogspot.com/2017/07/cruzada-ss-rr</a>
Quarta-feira	05/05/2021	Português Turma B e F	08h	Resolva as adições e pinte os resultados pares Produção de texto	Desenvolver o raciocínio lógico. Escrever com clareza e sequências de ideias.	Pinterest
Quinta-feira	06/05/2021	Matemática Turma B e F	08h	Produção de texto Cruzadinha RR	Escrever com clareza e sequências de ideias. Escrever as palavras na grafia correta.	Pinterest <a href="https://paraisodoeducando.blogspot.com/2017/07/cruzada-ss-rr">https://paraisodoeducando.blogspot.com/2017/07/cruzada-ss-rr</a>
Sexta-feira	07/05/2021	Hora atividade	08h			



Núcleo Regional de Educação – Guarapuava-PR

Secretaria Municipal de Educação

Escola Municipal do Campo Vital Brasil- EIEF

Município de Campina do Simão-PR

ATIVIDADES REMOTA Turma sala de recurso multifuncional Series Iniciais

Professora: Cleviane Dochvat Terres

ALUNO: RAFAEL HARDT

1- FORME PALAVRAS:

# DITADO NUMÉRICO



Forme palavras de acordo com os numerais iguais.

1	2	3	4	5	1	3	6	6	4
NA	A	LE	LE	ZE	ZI	ZA	ZEI	A	ZA
7	2	1	4	3	2	5	2	6	7
RO	ZEI	BU	BE	MO	TO	BU	NA	TE	ZE

1	<input type="text"/>	<input type="text"/>	<input type="text"/>	5	<input type="text"/>	<input type="text"/>		
2	<input type="text"/>	<input type="text"/>	<input type="text"/>	<input type="text"/>	6	<input type="text"/>	<input type="text"/>	<input type="text"/>
3	<input type="text"/>	<input type="text"/>	<input type="text"/>	7	<input type="text"/>	<input type="text"/>		
4	<input type="text"/>	<input type="text"/>	<input type="text"/>					



2- CONTE E CIRCULE O NÚMERO CORRETO:


	9		13
	11		10
	7		12
	15		11
	14		10
	13		12
	11		13
	13		15
	10		12

3- JUNTE AS SÍLABAS E ESCREVA OS NOMES DOS DESENHOS:

MA VA LA  
LE LI BA LU  
LU BO LÃO MÃO  
A LO GO LA

4 – RESOLVA O GRÁFICO

OBSERVE O GRÁFICO DE ROUPAS ARRECADADAS PELAS CRIANÇAS E RESPONDA AS QUESTÕES A SEGUIR.



- QUANTOS?

Quantos

Quantos

Quantos

QUANTOS **A MAIS** QUE ?

QUANTAS **A MENOS** QUE ?






3- JUNTE AS SÍLABAS E ESCREVA OS NOMES DOS DESENHOS:

MA VA LA  
LE LI BA LU  
LU BO LÃO MÃO  
A LO GO LA

4 – RESOLVA O GRÁFICO

OBSERVE O GRÁFICO DE ROUPAS ARRECADADAS PELAS CRIANÇAS E RESPONDA AS QUESTÕES A SEGUIR.



- QUANTOS?

Quantos  e

Quantos  e

Quantos  e

QUANTOS **A MAIS** QUE ?

QUANTAS **A MENOS** QUE ?





Núcleo Regional de Educação – Guarapuava-PR

Secretaria Municipal de Educação

Escola Municipal do Campo Vital Brasil- EIEF

Município de Campina do Simão-PR

ATIVIDADES REMOTA Turma sala de recurso multifuncional Series Iniciais

Professora: Cleviane Dochvat Terres

ALUNA: Marina Luiza Freitas

1- FORME PALAVRAS:

# DITADO NUMÉRICO









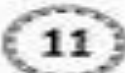
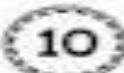










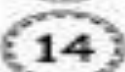
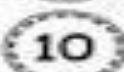














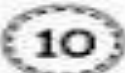

Forme palavras de acordo com os numerais iguais.

1	2	3	4	5	1	3	6	6	4
NA	A	LE	LE	ZE	ZI	ZA	ZEI	A	ZA
7	2	1	4	3	2	5	2	6	7
RO	ZEI	BU	BE	MO	TO	BU	NA	TE	ZE

1	□	□	□	5	□	□			
2	□	□	□	□	6	□	□	□	□
3	□	□	□	7	□	□			
4	□	□	□						



2- CONTE E CIRCULE O NÚMERO CORRETO:


			
			
			
			
			
			
			
			
			

3- JUNTE AS SÍLABAS E ESCREVA OS NOMES DOS DESENHOS:

MA VA LA  
LE LI BA LU  
LU BO LÃO MÃO  
A LO GO LA

4 – RESOLVA O GRÁFICO

OBSERVE O GRÁFICO DE ROUPAS ARRECADADAS PELAS CRIANÇAS E RESPONDA AS QUESTÕES A SEGUIR.



**- QUANTOS?**

Quantos

Quantos

Quantos

**QUANTOS A MAIS**

QUE ?

**QUANTAS A MENOS**

QUE ?



Núcleo Regional de Educação – Guarapuava-PR

Secretaria Municipal de Educação

Escola Municipal do Campo Vital Brasil- EIEF

Município de Campina do Simão-PR

ATIVIDADES REMOTA Turma sala de recurso multifuncional Series Iniciais

Professora: Cleviane Dochvat Terres

ALUNA: Milena Ribas Batista

1- FORME PALAVRAS:

# DITADO NUMÉRICO



Forme palavras de acordo com os numerais iguais.

1	2	3	4	5	1	3	6	6	4
NA	A	LE	LE	ZE	ZI	ZA	ZEI	A	ZA
7	2	1	4	3	2	5	2	6	7
RO	ZEI	BU	BE	MO	TO	BU	NA	TE	ZE

1	□	□	□	5	□	□			
2	□	□	□	□	6	□	□	□	□
3	□	□	□	7	□	□			
4	□	□	□						



2- CONTE E CIRCULE O NÚMERO CORRETO:

	9		13
	11		10
	7		12
	15		11
	14		10
	13		12
	11		13
	13		15
	10		12




3- JUNTE AS SÍLABAS E ESCREVA OS NOMES DOS DESENHOS:

MA VA LA  
LE LI BA LU  
LU BO LÃO MÃO  
A LO GO  
LA

4 – RESOLVA O GRÁFICO

OBSERVE O GRÁFICO DE ROUPAS ARRECADADAS PELAS CRIANÇAS E RESPONDA AS QUESTÕES A SEGUIR.



- QUANTOS?

Quantos  e

Quantos  e

Quantos  e

QUANTOS **A MAIS** QUE ?

QUANTAS **A MENOS** QUE ?



Núcleo Regional de Educação – Guarapuava-PR

Secretaria Municipal de Educação

Escola Municipal do Campo Vital Brasil- EIEF

Município de Campina do Simão-PR

ATIVIDADES REMOTA Turma sala de recurso multifuncional Series Iniciais

Professora: Cleviane Dochvat Terres

ALUNA: Tainara Ketlin Gonçalves de Mello

1- FORME PALAVRAS:

# DITADO NUMÉRICO



Forme palavras de acordo com os numerais iguais.

1	2	3	4	5	1	3	6	6	4
NA	A	LE	LE	ZE	ZI	ZA	ZEI	A	ZA
7	2	1	4	3	2	5	2	6	7
RO	ZEI	BU	BE	MO	TO	BU	NA	TE	ZE

1	<input type="text"/>	<input type="text"/>	<input type="text"/>	5	<input type="text"/>	<input type="text"/>		
2	<input type="text"/>	<input type="text"/>	<input type="text"/>	<input type="text"/>	6	<input type="text"/>	<input type="text"/>	<input type="text"/>
3	<input type="text"/>	<input type="text"/>	<input type="text"/>	7	<input type="text"/>	<input type="text"/>		
4	<input type="text"/>	<input type="text"/>	<input type="text"/>					



2- CONTE E CIRCULE O NÚMERO CORRETO:

	<input type="text"/>			<input type="text"/>	
	<input type="text"/>			<input type="text"/>	
	<input type="text"/>			<input type="text"/>	
	<input type="text"/>			<input type="text"/>	
	<input type="text"/>			<input type="text"/>	
	<input type="text"/>			<input type="text"/>	
	<input type="text"/>			<input type="text"/>	
	<input type="text"/>			<input type="text"/>	
	<input type="text"/>			<input type="text"/>	




3- JUNTE AS SÍLABAS E ESCREVA OS NOMES DOS DESENHOS:

MA VA LA  
LE LI BA LU  
LU BO LÃO MÃO  
A LO GO  
LA

4 – RESOLVA O GRÁFICO

OBSERVE O GRÁFICO DE ROUPAS ARRECADADAS PELAS CRIANÇAS E RESPONDA AS QUESTÕES A SEGUIR.



- QUANTOS?

Quantos  e

Quantos  e

Quantos  e

QUANTOS **A MAIS** QUE ?

QUANTAS **A MENOS** QUE ?



Núcleo Regional de Educação – Guarapuava-PR

Secretaria Municipal de Educação

Escola Municipal do Campo Vital Brasil- EIEF

Município de Campina do Simão-PR

ATIVIDADES REMOTA Turma sala de recurso multifuncional Series Iniciais

Professora: Cleviane Dochvat Terres

Aluna: Maria Rita dos Santos

1- FORME PALAVRAS:

# DITADO NUMÉRICO



Forme palavras de acordo com os numerais iguais.

1	2	3	4	5	1	3	6	6	4
NA	A	LE	LE	ZE	ZI	ZA	ZEI	A	ZA
7	2	1	4	3	2	5	2	6	7
RO	ZEI	BU	BE	MO	TO	BU	NA	TE	ZE

1	<input type="text"/>	<input type="text"/>	<input type="text"/>	5	<input type="text"/>	<input type="text"/>		
2	<input type="text"/>	<input type="text"/>	<input type="text"/>	<input type="text"/>	6	<input type="text"/>	<input type="text"/>	<input type="text"/>
3	<input type="text"/>	<input type="text"/>	<input type="text"/>	7	<input type="text"/>	<input type="text"/>		
4	<input type="text"/>	<input type="text"/>	<input type="text"/>					



2- CONTE E CIRCULE O NÚMERO CORRETO:


	<input type="text"/>			<input type="text"/>	
	<input type="text"/>			<input type="text"/>	
	<input type="text"/>			<input type="text"/>	
	<input type="text"/>			<input type="text"/>	
	<input type="text"/>			<input type="text"/>	
	<input type="text"/>			<input type="text"/>	
	<input type="text"/>			<input type="text"/>	
	<input type="text"/>			<input type="text"/>	
	<input type="text"/>			<input type="text"/>	

3- JUNTE AS SÍLABAS E ESCREVA OS NOMES DOS DESENHOS:

MA VA LA  
LE LI BA LU  
LU BO LÃO MÃO  
A LO GO LA

4 – RESOLVA O GRÁFICO

OBSERVE O GRÁFICO DE ROUPAS ARRECADADAS PELAS CRIANÇAS E RESPONDA AS QUESTÕES A SEGUIR.



- QUANTOS?

Quantos

Quantos

Quantos

QUANTOS **A MAIS**  
QUE ?

QUANTAS **A MENOS**  
QUE ?





Núcleo Regional de Educação – Guarapuava-PR

Secretaria Municipal de Educação

Escola Municipal do Campo Vital Brasil- EIEF

Município de Campina do Simão-PR


ATIVIDADES REMOTA Turma sala de recurso multifuncional Series Iniciais

Professora: Cleviane Dochvat Terres

Aluno: Mizael Henrique De Oliveira Hardt

### 1- Resolva o gráfico:

- Observe o gráfico que mostra o animal preferido pelos alunos do 2º ano:



- De acordo com o gráfico, complete a tabela abaixo, escrevendo o nome dos animais e sua respectiva quantidade:

NOME DO ANIMAL	QUANTIDADE
Abelha	
Borboleta	
Cachorro	
Cavalo	
Joaninha	
Vaca	

- Qual foi o animal mais votado? \_\_\_\_\_
- Qual foi o animal menos votado? \_\_\_\_\_
- Quantos votos teve o cavalo? \_\_\_\_\_
- Qual animal teve 7 votos? \_\_\_\_\_

### 2-Leia e responda:

Belinha,  
 Passei na sua casa para contar o que aconteceu comigo ontem à noite. Telefone para mim hoje à tarde, que eu vou contar tudinho para você!  
 Um beijinho da amiga Juliana.  
 15/04/11

- 1- Marque a resposta certa:

Este gênero textual é um:

- CARTÃO  AVISO  BILHETE  CONTO

- 2- O assunto principal do texto é para:

- mostrar um brinquedo.  convidar para passear.  
 contar um acontecimento.

- 3- Quem escreveu o bilhete foi:

- BELINHA  JULIANA  PAULA

- 4- Para quem ela escreveu?

- JULIANA  BELINHA  PAULA

- 5- A data do bilhete é:

- 15 de junho de 2011  15 de janeiro de 2011.  
 15 de abril de 2011.

- 6- A palavra que indica o tempo do acontecido:


- HOJE  ONTEM  AMANHÃ

- 7- O meio de comunicação usado foi:

- CARTA  TELEGRAMA  TELEFONE

3-Resolva as adições e pinte as bolinhas

dos resultados pares:

$\begin{array}{r} 71 \\ +15 \\ \hline \end{array}$	$\begin{array}{r} 28 \\ +41 \\ \hline \end{array}$	$\begin{array}{r} 63 \\ +23 \\ \hline \end{array}$
$\begin{array}{r} 42 \\ +47 \\ \hline \end{array}$		$\begin{array}{r} 34 \\ +12 \\ \hline \end{array}$
$\begin{array}{r} 74 \\ +24 \\ \hline \end{array}$	$\begin{array}{r} 62 \\ +32 \\ \hline \end{array}$	$\begin{array}{r} 82 \\ +16 \\ \hline \end{array}$

4 -Observe as cenas e escreva:

1) Escreva uma frase para cada cena e forme uma história. Dê um título à história e um nome à galinha.




---

---

---

---



---

---

---

---



---

---

---

---





Núcleo Regional de Educação – Guarapuava-PR

Secretaria Municipal de Educação

Escola Municipal do Campo Vital Brasil- EIEF

Município de Campina do Simão-PR

ATIVIDADES REMOTA Turma sala de recurso multifuncional Series Iniciais

Professora: Cleviane Dochovat Aluno: Pedro Henrique Zimmerman

1 – Leia e responda:

Belinha,  
Passei na sua casa para contar o  
que aconteceu comigo ontem à noite.  
Telefone para mim hoje à tarde, que  
eu vou contar tudinho para você!  
Um beijinho da amiga Juliana.  
15/04/11

1- Marque a resposta certa:

Este gênero textual é um:

CARTÃO  AVISO  BILHETE  CONTO

2- O assunto principal do texto é para:

mostrar um brinquedo.  convidar para passear.  
 contar um acontecimento.

3- Quem escreveu o bilhete foi:

BELINHA  JULIANA  PAULA

4- Para quem ela escreveu?

JULIANA  BELINHA  PAULA

5- A data do bilhete é:

15 de junho de 2011  15 de janeiro de 2011.  
 15 de abril de 2011.

6- A palavra que indica o tempo do acontecido:

HOJE  ONTEM  AMANHÃ

7- O meio de comunicação usado foi:

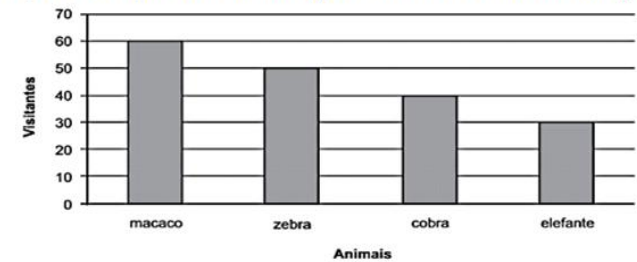
CARTA  TELEGRAMA  TELEFONE

2- Resolva o gráfico:

1º) O gráfico abaixo mostra a quantidade de pessoas que visitaram alguns animais de um zoológico no último final de semana.

De acordo com esse gráfico, quantas pessoas visitaram o elefante?

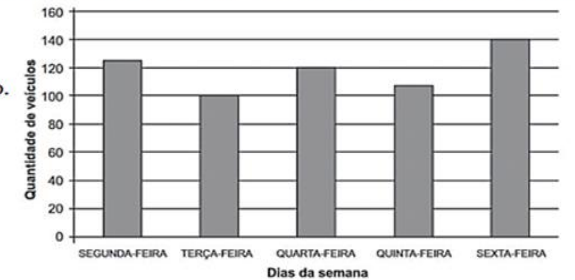
- A) 30  
B) 40  
C) 50  
D) 60



2º) O gráfico abaixo apresenta a quantidade de carros que pararam em um estacionamento durante 5 dias em uma semana.

De acordo com esse gráfico, em qual dia dessa semana 140 carros pararam nesse estacionamento.

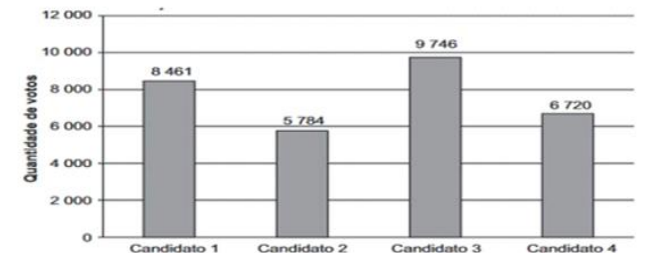
- A) Segunda-feira  
B) Terça-feira  
C) Quarta-feira  
D) Sexta-feira



3º) O gráfico abaixo apresenta a quantidade de votos em cada um dos 4 candidatos a prefeitura de uma cidade em uma eleição.

De acordo com esse gráfico, qual foi o Candidato que recebeu a maior quantidade de votos nessas eleições?

- A) CANDIDATO 1  
B) CANDIDATO 2  
C) CANDIDATO 3  
D) CANDIDATO 4



3-Observe as cenas e escreva:

1) Escreva uma frase para cada cena e forme uma história. Dê um título à história e um nome à galinha.




---




---



---



---




---




---



---



---




---



---



---



---

4- Complete a cruzadinha:

# CRUZADINHA RR

30

35

33

32

31

39

34

37

46

40

48

50

41

39

55

51

43

44

53

54

38

52

51

43

49

47

51

ARROZ

50

41

48

33

53

45

49

36

42

32

47

44

ÁGUA

55

34

43



Núcleo Regional de Educação – Guarapuava-PR

Secretaria Municipal de Educação

Escola Municipal do Campo Vital Brasil- EIEF

Município de Campina do Simão-PR

ATIVIDADES REMOTAS

Turma sala de recurso multifuncional Series Iniciais

Professora: Cleviane Dochvat Terres

Aluna: : Geiziane Wanscher

### 1- Resolva as divisões:

$$2 \overline{) 2} \quad 4 \overline{) 2} \quad 6 \overline{) 2} \quad 8 \overline{) 2}$$

$$22 \overline{) 2} \quad 42 \overline{) 2} \quad 26 \overline{) 2} \quad 82 \overline{) 2}$$

$$25 \overline{) 2} \quad 47 \overline{) 2} \quad 60 \overline{) 2} \quad 83 \overline{) 2}$$

$$10 \overline{) 2} \quad 62 \overline{) 2} \quad 84 \overline{) 2} \quad 46 \overline{) 2}$$

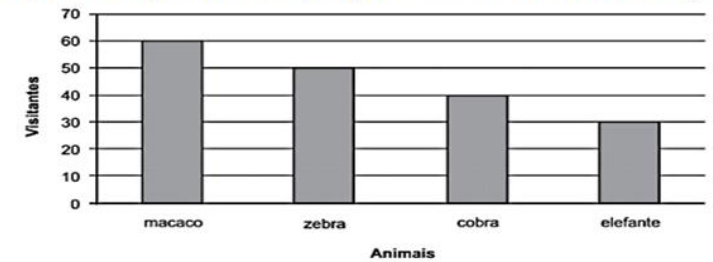
$$70 \overline{) 2} \quad 92 \overline{) 2} \quad 51 \overline{) 2} \quad 31 \overline{) 2}$$

### 2- Resolva o gráfico:

1º) O gráfico abaixo mostra a quantidade de pessoas que visitaram alguns animais de um zoológico no último final de semana.

De acordo com esse gráfico, quantas pessoas visitaram o elefante?

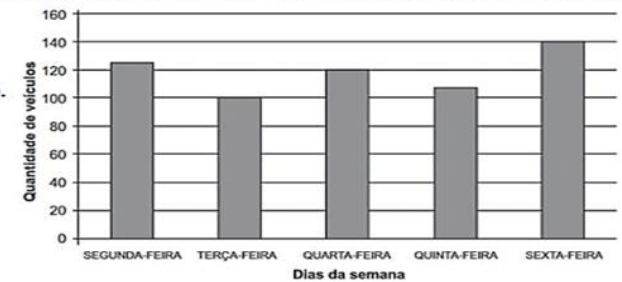
- A)30
- B)40
- C)50
- D)60



2º) O gráfico abaixo apresenta a quantidade de carros que pararam em um estacionamento durante 5 dias em uma semana.

De acordo com esse gráfico, em qual dia dessa semana 140 carros pararam nesse estacionamento.

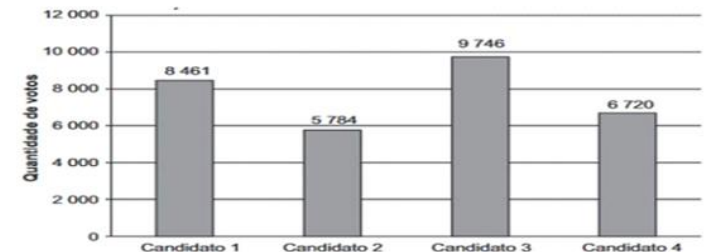
- A)Segunda-feira
- B)Terça-feira
- C)Quarta-feira
- D)Sexta-feira



3º) O gráfico abaixo apresenta a quantidade de votos em cada um dos 4 candidatos a prefeitura de uma cidade em uma eleição.

De acordo com esse gráfico, qual foi o Candidato que recebeu a maior quantidade de votos nessas eleições?

- A)CANDIDATO 1
- B)CANDIDATO 2
- C)CANDIDATO 3
- D)CANDIDATO 4





3-Observe as cenas e escreva:

1) Escreva uma frase para cada cena e forme uma história. Dê um título à história e um nome à galinha.




---




---



---



---




---




---



---



---




---



---



---



---

4- Complete a cruzadinha:

# CRUZADINHA RR



Núcleo Regional de Educação – Guarapuava-PR

Secretaria Municipal de Educação

Escola Municipal do Campo Vital Brasil- EIEF

Município de Campina do Simão-PR

ATIVIDADES REMOTAS

Turma sala de recurso multifuncional Series Iniciais

Professora: Cleviane Dochvat Terres

Aluno: Cleidson Gustavo Moscal

### 1- Resolva as divisões:

$$2 \overline{) 2} \quad 4 \overline{) 2} \quad 6 \overline{) 2} \quad 8 \overline{) 2}$$

$$22 \overline{) 2} \quad 42 \overline{) 2} \quad 26 \overline{) 2} \quad 82 \overline{) 2}$$

$$25 \overline{) 2} \quad 47 \overline{) 2} \quad 60 \overline{) 2} \quad 83 \overline{) 2}$$

$$10 \overline{) 2} \quad 62 \overline{) 2} \quad 84 \overline{) 2} \quad 46 \overline{) 2}$$

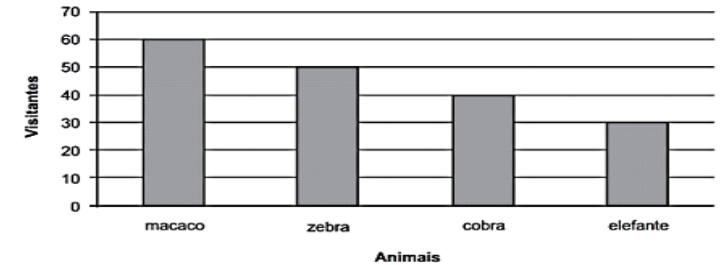
$$70 \overline{) 2} \quad 92 \overline{) 2} \quad 51 \overline{) 2} \quad 31 \overline{) 2}$$

### 2-Resolva o gráfico.

1º)O gráfico abaixo mostra a quantidade de pessoas que visitaram alguns animais de um zoológico no último final de semana.

De acordo com esse gráfico, quantas pessoas visitaram o elefante?

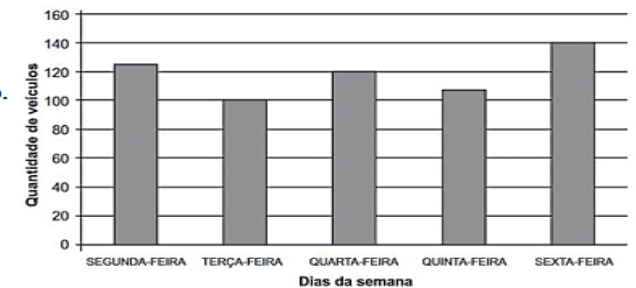
- A)30
- B)40
- C)50
- D)60



2º) O gráfico abaixo apresenta a quantidade de carros que pararam em um estacionamento durante 5 dias em uma semana.

De acordo com esse gráfico, em qual dia dessa semana 140 carros pararam nesse estacionamento.

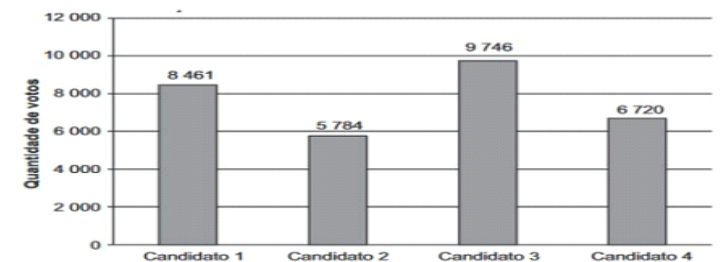
- A)Segunda-feira
- B)Terça-feira
- C)Quarta-feira
- D)Sexta-feira



3º)O gráfico abaixo apresenta a quantidade de votos em cada um dos 4 candidatos a prefeitura de uma cidade em uma eleição.

De acordo com esse gráfico, qual foi o Candidato que recebeu a maior quantidade de votos nessas eleições?

- A)CANDIDATO 1
- B)CANDIDATO 2
- C)CANDIDATO 3
- D)CANDIDATO 4





3-Observe as cenas e escreva:

1) Escreva uma frase para cada cena e forme uma história. Dê um título à história e um nome à galinha.




---




---



---



---




---




---



---



---




---



---



---



---

4- Complete a cruzadinha:

# CRUZADINHA RR



Município de Campina do Simão-PR

ATIVIDADES REMOTAS

Turma sala de recurso multifuncional Series Iniciais

Professora: Cleviane Dochvat Terres

Aluna: : Daniele Foss Pereira Machado

2- Resolva o gráfico

1- Resolva as divisões:

2 | 2      4 | 2      6 | 2      8 | 2

22 | 2      42 | 2      26 | 2      82 | 2

25 | 2      47 | 2      60 | 2      83 | 2

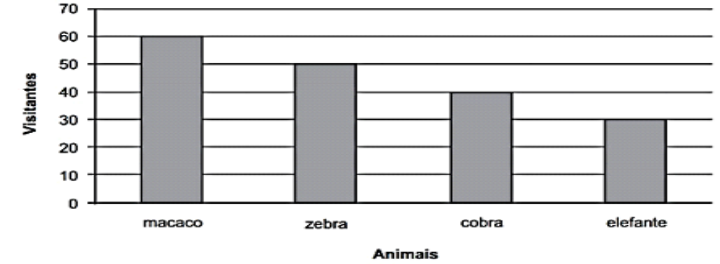
10 | 2      62 | 2      84 | 2      46 | 2

70 | 2      92 | 2      51 | 2      31 | 2

1º)O gráfico abaixo mostra a quantidade de pessoas que visitaram alguns animais de um zoológico no último final de semana.

De acordo com esse gráfico, quantas pessoas visitaram o elefante?

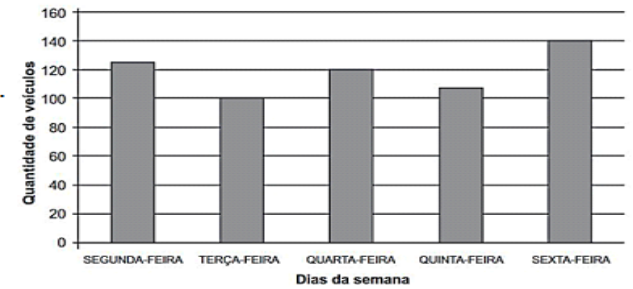
- A)30
- B)40
- C)50
- D)60



2º) O gráfico abaixo apresenta a quantidade de carros que pararam em um estacionamento durante 5 dias em uma semana.

De acordo com esse gráfico, em qual dia dessa semana 140 carros pararam nesse estacionamento.

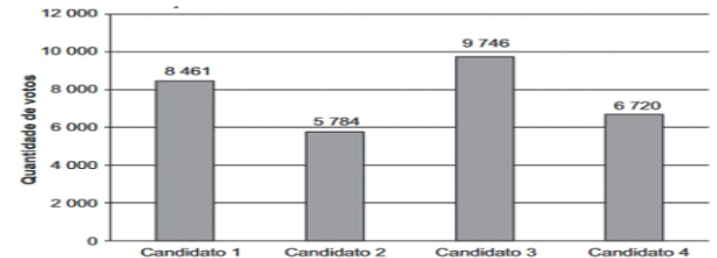
- A)Segunda-feira
- B)Terça-feira
- C)Quarta-feira
- D)Sexta-feira



3º)O gráfico abaixo apresenta a quantidade de votos em cada um dos 4 candidatos a prefeitura de uma cidade em uma eleição.

De acordo com esse gráfico, qual foi o Candidato que recebeu a maior quantidade de votos nessas eleições?

- A)CANDIDATO 1
- B)CANDIDATO 2
- C)CANDIDATO 3
- D)CANDIDATO 4









Núcleo Regional de Educação – Guarapuava-PR

Secretaria Municipal de Educação

Escola Municipal do Campo Vital Brasil- EIEF

Município de Campina do Simão-PR

ATIVIDADES REMOTAS

Turma sala de recurso multifuncional Series Iniciais

Professora: Cleviane Dochvat Terres

Aluno: :Elison José Brandão

2- Resolva o gráfico

### 1- Resolva as divisões:

$$2 \overline{) 2} \quad 4 \overline{) 2} \quad 6 \overline{) 2} \quad 8 \overline{) 2}$$

$$22 \overline{) 2} \quad 42 \overline{) 2} \quad 26 \overline{) 2} \quad 82 \overline{) 2}$$

$$25 \overline{) 2} \quad 47 \overline{) 2} \quad 60 \overline{) 2} \quad 83 \overline{) 2}$$

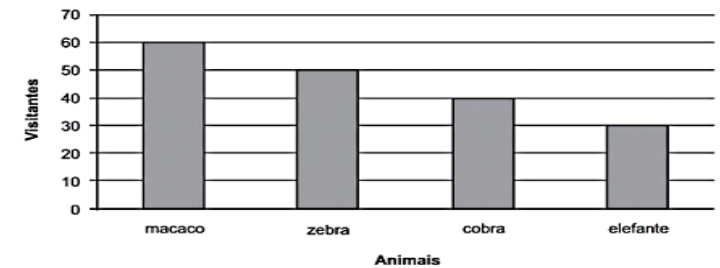
$$10 \overline{) 2} \quad 62 \overline{) 2} \quad 84 \overline{) 2} \quad 46 \overline{) 2}$$

$$70 \overline{) 2} \quad 92 \overline{) 2} \quad 51 \overline{) 2} \quad 31 \overline{) 2}$$

1º)O gráfico abaixo mostra a quantidade de pessoas que visitaram alguns animais de um zoológico no último final de semana.

De acordo com esse gráfico, quantas pessoas visitaram o elefante?

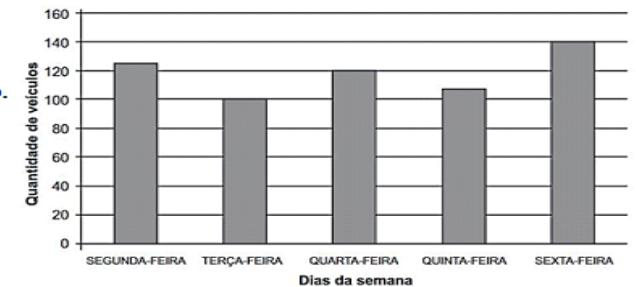
- A)30
- B)40
- C)50
- D)60



2º) O gráfico abaixo apresenta a quantidade de carros que pararam em um estacionamento durante 5 dias em uma semana.

De acordo com esse gráfico, em qual dia dessa semana 140 carros pararam nesse estacionamento.

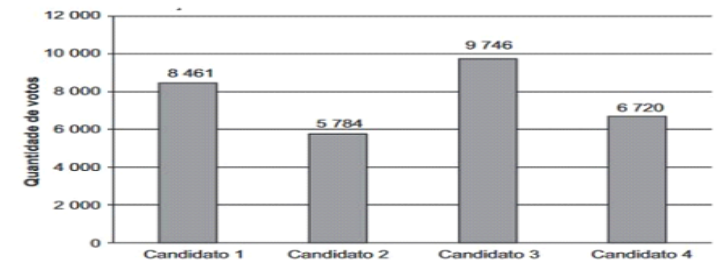
- A)Segunda-feira
- B)Terça-feira
- C)Quarta-feira
- D)Sexta-feira



3º)O gráfico abaixo apresenta a quantidade de votos em cada um dos 4 candidatos a prefeitura de uma cidade em uma eleição.

De acordo com esse gráfico, qual foi o Candidato que recebeu a maior quantidade de votos nessas eleições?

- A)CANDIDATO 1
- B)CANDIDATO 2
- C)CANDIDATO 3
- D)CANDIDATO 4



3-Observe as cenas e escreva:

1) Escreva uma frase para cada cena e forme uma história. Dê um título à história e um nome à galinha.




---




---



---



---




---




---



---



---




---



---



---



---

4- Complete a cruzadinha:

## CRUZADINHA RR

30

35

36

37

38

39

40

41

42

43

44

45

46

47

48

49

50

51

52

53

54

55

32

31

30

37

37

38

31

48

41

48

33

42

32

51

50

49

45

47

43

44

42

41

48

33

36

32

34

52

34



ATIVIDADES REMOTAS

Turma sala de recurso multifuncional Series Iniciais

Professora: Clevisne Dochvat Terres

Aluno: Cassiano Santana

2- Resolva o gráfico:

1- Resolva as divisões:

2 | 2      4 | 2      6 | 2      8 | 2

22 | 2      42 | 2      26 | 2      82 | 2

25 | 2      47 | 2      60 | 2      83 | 2

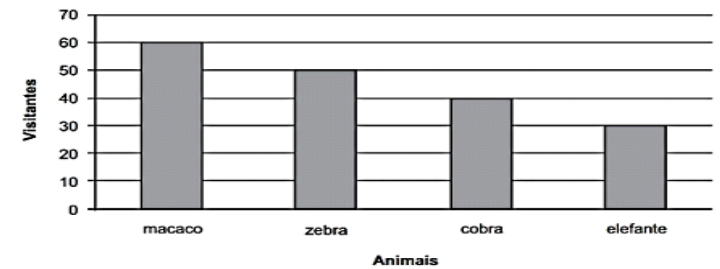
10 | 2      62 | 2      84 | 2      46 | 2

70 | 2      92 | 2      51 | 2      31 | 2

1º)O gráfico abaixo mostra a quantidade de pessoas que visitaram alguns animais de um zoológico no último final de semana.

De acordo com esse gráfico, quantas pessoas visitaram o elefante?

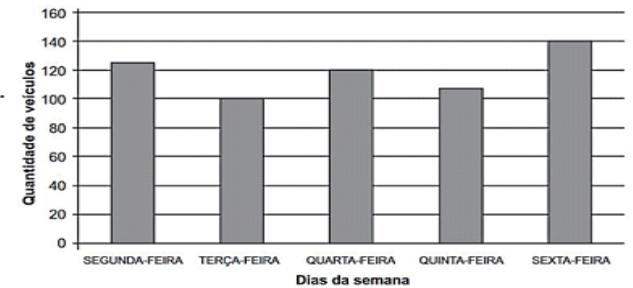
- A)30
- B)40
- C)50
- D)60



2º) O gráfico abaixo apresenta a quantidade de carros que pararam em um estacionamento durante 5 dias em uma semana.

De acordo com esse gráfico, em qual dia dessa semana 140 carros pararam nesse estacionamento.

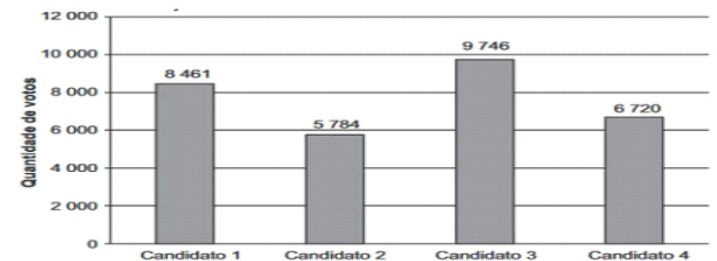
- A)Segunda-feira
- B)Terça-feira
- C)Quarta-feira
- D)Sexta-feira



3º)O gráfico abaixo apresenta a quantidade de votos em cada um dos 4 candidatos a prefeitura de uma cidade em uma eleição.

De acordo com esse gráfico, qual foi o Candidato que recebeu a maior quantidade de votos nessas eleições?

- A)CANDIDATO 1
- B)CANDIDATO 2
- C)CANDIDATO 3
- D)CANDIDATO 4





3-Observe as cenas e escreva:

1) Escreva uma frase para cada cena e forme uma história. Dê um título à história e um nome à galinha.




---




---



---



---




---




---



---



---




---



---



---



---

4- Complete a cruzadinha:

# CRUZADINHA RR



Núcleo Regional de Educação – Guarapuava-PR

Secretaria Municipal de Educação

Escola Municipal do Campo Vital Brasil- EIEF

Município de Campina do Simão-PR

ATIVIDADES REMOTAS

Turma sala de recurso multifuncional Series Iniciais

Professora: Cleviane Dochvat Terres

Aluno: Jonatan Ferraz Machado Deri

### 1- Resolva as divisões:

$$2 \overline{) 2} \quad 4 \overline{) 2} \quad 6 \overline{) 2} \quad 8 \overline{) 2}$$

$$22 \overline{) 2} \quad 42 \overline{) 2} \quad 26 \overline{) 2} \quad 82 \overline{) 2}$$

$$25 \overline{) 2} \quad 47 \overline{) 2} \quad 60 \overline{) 2} \quad 83 \overline{) 2}$$

$$10 \overline{) 2} \quad 62 \overline{) 2} \quad 84 \overline{) 2} \quad 46 \overline{) 2}$$

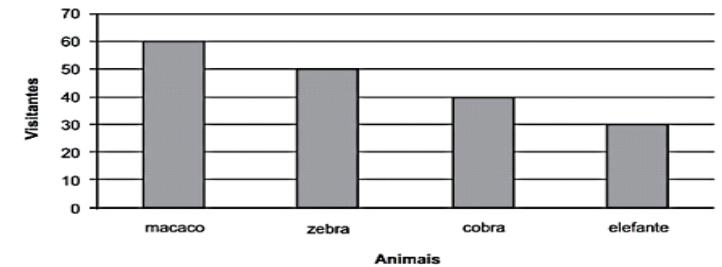
$$70 \overline{) 2} \quad 92 \overline{) 2} \quad 51 \overline{) 2} \quad 31 \overline{) 2}$$

### 2- Resolva o gráfico :

1º)O gráfico abaixo mostra a quantidade de pessoas que visitaram alguns animais de um zoológico no último final de semana.

De acordo com esse gráfico, quantas pessoas visitaram o elefante?

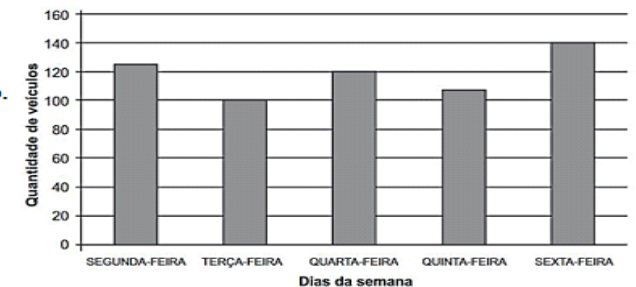
- A)30
- B)40
- C)50
- D)60



2º) O gráfico abaixo apresenta a quantidade de carros que pararam em um estacionamento durante 5 dias em uma semana.

De acordo com esse gráfico, em qual dia dessa semana 140 carros pararam nesse estacionamento.

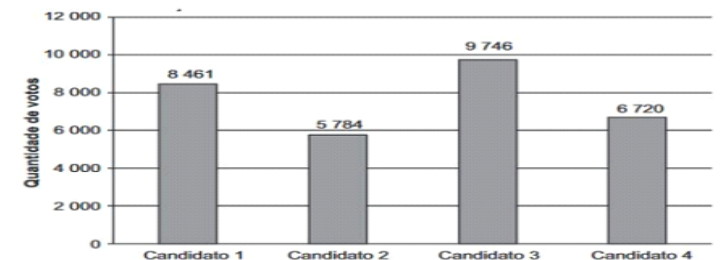
- A)Segunda-feira
- B)Terça-feira
- C)Quarta-feira
- D)Sexta-feira



3º)O gráfico abaixo apresenta a quantidade de votos em cada um dos 4 candidatos a prefeitura de uma cidade em uma eleição.

De acordo com esse gráfico, qual foi o Candidato que recebeu a maior quantidade de votos nessas eleições?

- A)CANDIDATO 1
- B)CANDIDATO 2
- C)CANDIDATO 3
- D)CANDIDATO 4



3-Observe as cenas e escreva:

1) Escreva uma frase para cada cena e forme uma história. Dê um título à história e um nome à galinha.




---




---



---



---




---




---



---



---




---



---



---



---

4- Complete a cruzadinha:

# CRUZADINHA RR





Núcleo Regional de Educação – Guarapuava-PR

Secretaria Municipal de Educação

Escola Municipal do Campo Vital Brasil- EIEF

Município de Campina do Simão-PR

ATIVIDADES REMOTAS

Turma sala de recurso multifuncional Series Iniciais

Professora: Cleviane Dochvat Terres

Aluno: Henrique de Oliveira

### 1- Resolva as divisões:

$$2 \overline{) 2} \quad 4 \overline{) 2} \quad 6 \overline{) 2} \quad 8 \overline{) 2}$$

$$22 \overline{) 2} \quad 42 \overline{) 2} \quad 26 \overline{) 2} \quad 82 \overline{) 2}$$

$$25 \overline{) 2} \quad 47 \overline{) 2} \quad 60 \overline{) 2} \quad 83 \overline{) 2}$$

$$10 \overline{) 2} \quad 62 \overline{) 2} \quad 84 \overline{) 2} \quad 46 \overline{) 2}$$

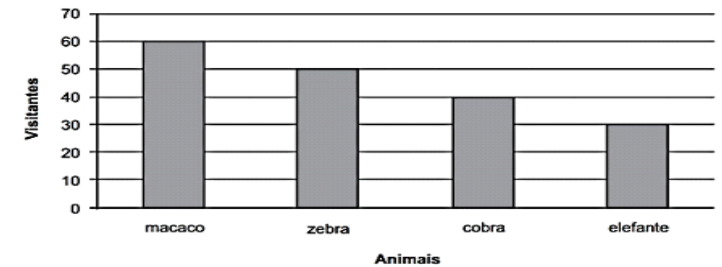
$$70 \overline{) 2} \quad 92 \overline{) 2} \quad 51 \overline{) 2} \quad 31 \overline{) 2}$$

### 2- Resolva o gráfico:

1º) O gráfico abaixo mostra a quantidade de pessoas que visitaram alguns animais de um zoológico no último final de semana.

De acordo com esse gráfico, quantas pessoas visitaram o elefante?

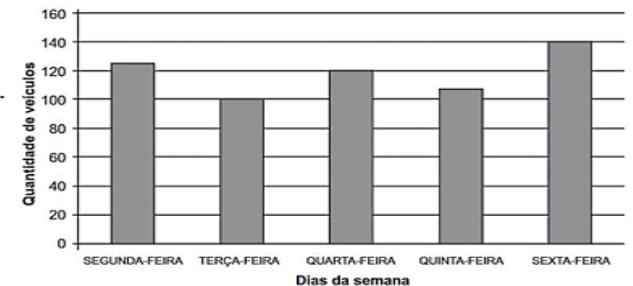
- A) 30
- B) 40
- C) 50
- D) 60



2º) O gráfico abaixo apresenta a quantidade de carros que pararam em um estacionamento durante 5 dias em uma semana.

De acordo com esse gráfico, em qual dia dessa semana 140 carros pararam nesse estacionamento.

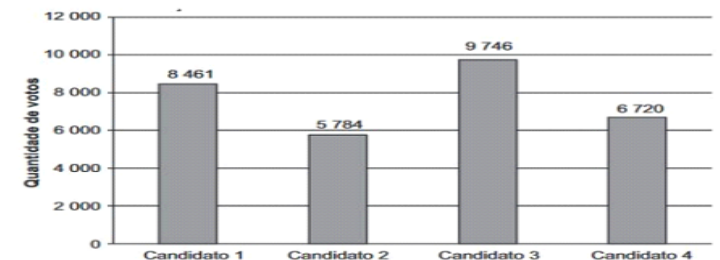
- A) Segunda-feira
- B) Terça-feira
- C) Quarta-feira
- D) Sexta-feira



3º) O gráfico abaixo apresenta a quantidade de votos em cada um dos 4 candidatos a prefeitura de uma cidade em uma eleição.

De acordo com esse gráfico, qual foi o Candidato que recebeu a maior quantidade de votos nessas eleições?

- A) CANDIDATO 1
- B) CANDIDATO 2
- C) CANDIDATO 3
- D) CANDIDATO 4



3-Observe as cenas e escreva:

1) Escreva uma frase para cada cena e forme uma história. Dê um título à história e um nome à galinha.




---




---



---



---




---




---



---



---




---



---



---



---

4- Complete a cruzadinha:

# CRUZADINHA RR



Núcleo Regional de Educação – Guarapuava-PR

Secretaria Municipal de Educação

Escola Municipal do Campo Vital Brasil- EIEF

Município de Campina do Simão-PR

ATIVIDADES REMOTAS

Turma sala de recurso multifuncional Series Iniciais

Professora: Cleviane Dochvat Terres

Aluna: Bianca do Belém Santana dos Santos

### 1- Resolva as divisões:

$$2 \overline{) 2} \quad 4 \overline{) 2} \quad 6 \overline{) 2} \quad 8 \overline{) 2}$$

$$22 \overline{) 2} \quad 42 \overline{) 2} \quad 26 \overline{) 2} \quad 82 \overline{) 2}$$

$$25 \overline{) 2} \quad 47 \overline{) 2} \quad 60 \overline{) 2} \quad 83 \overline{) 2}$$

$$10 \overline{) 2} \quad 62 \overline{) 2} \quad 84 \overline{) 2} \quad 46 \overline{) 2}$$

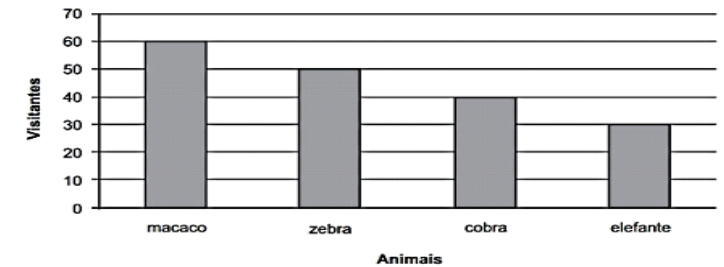
$$70 \overline{) 2} \quad 92 \overline{) 2} \quad 51 \overline{) 2} \quad 31 \overline{) 2}$$

### 2- Resolva o gráfico :

1º)O gráfico abaixo mostra a quantidade de pessoas que visitaram alguns animais de um zoológico no último final de semana.

De acordo com esse gráfico, quantas pessoas visitaram o elefante?

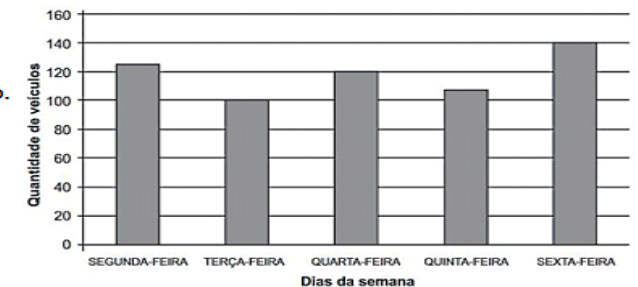
- A)30
- B)40
- C)50
- D)60



2º) O gráfico abaixo apresenta a quantidade de carros que pararam em um estacionamento durante 5 dias em uma semana.

De acordo com esse gráfico, em qual dia dessa semana 140 carros pararam nesse estacionamento.

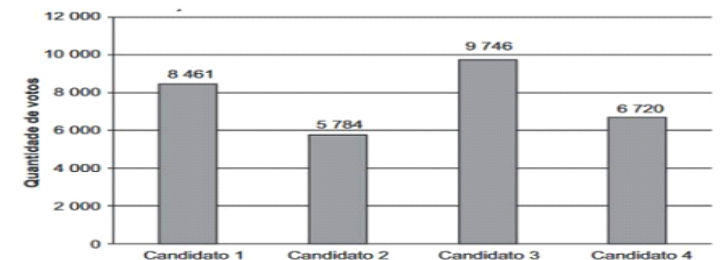
- A)Segunda-feira
- B)Terça-feira
- C)Quarta-feira
- D)Sexta-feira



3º)O gráfico abaixo apresenta a quantidade de votos em cada um dos 4 candidatos a prefeitura de uma cidade em uma eleição.

De acordo com esse gráfico, qual foi o Candidato que recebeu a maior quantidade de votos nessas eleições?

- A)CANDIDATO 1
- B)CANDIDATO 2
- C)CANDIDATO 3
- D)CANDIDATO 4





3-Observe as cenas e escreva:

1) Escreva uma frase para cada cena e forme uma história. Dê um título à história e um nome à galinha.




---




---



---



---




---




---



---



---




---



---



---



---

4- Complete a cruzadinha:

# CRUZADINHA RR