



Núcleo Regional de Educação – Guarapuava-PR

Secretaria Municipal de Educação

Escola Municipal do Campo Vital Brasil- EIEF

Município de Campina do Simão-PR

E-mail prof: isolinacordeiro@hotmail.com

Plano Quinzenal: 26/04/2021 a 07/05/2021

Turma: Classe Especial Professora: Isolina Walter Cordeiro

DIA DAS SEMANAS	DATA	DISCIPLINA	CARGA HORÁRIA	CONTEÚDOS	OBJETIVOS	REFERÊNCIAS
Segunda - feira	26/04/2021	Matemática e português.	4 Horas	- Subtração. - Pesquisa.	- Ajudar o coelhinho a resolver as subtrações. -Pesquisar e escrever sobre o verdadeiro significado da Páscoa.	https://www.google.com/search?q=pinterest+atividades++matematica+pascoa&tbm=isch&ved=2ahUKEwiCmN6e-vnvAhVAA7kGHdzXBulQ2-cCeqQIABAA&og=pinterest+atividades++matematica+pascoa&gs_lcp=CgNpbWcQAzoCCAA6BggAEAgQHlDw2ApYueoKYP_wCmgAcAB4AIABggSIAbMRkgELMC4xLjMuMS4wLjK YAQCgAQGgAQtdnd3Mtd2I6LWltZ8ABAQ&scient=img&ei=g-R0YMLKHsCG5OUP3K-bkA4&bih=657&biw=1349&hl=pt-BR#imgrc=Pqu2Vtp8XZ8OvM https://www.google.com/search?q=pinterest+atividades+de+portugues+2+ano+pascoa&tbm=isch&ved=2ahUKEwiSwOn4-_nvAhViM7kGHTI3CJoQ2-cCeqQIABAA&og=pinterest+atividades+de+portugues+2+ano+pascoa&gs_lcp=CgNpbWcQA1DFAVjFAWCF C2gAcAB4AIABAlgBAJIBAJgBAKABAoBC2d3cy13aXotaW1nwAEB&scient=img&ei=TOZ0YNLqNOLm5OUPsu6g0Ak&bih=657&biw=1349&hl=pt-BR#imgrc=QY4XWN19KxuhM&imgdii=0JxSUFdCLa5eoM
Terça - feira	27/04/2021	Matemática	4 Horas	- Coelhos.	- Colorir e contar os	https://www.google.com/search?q=pinterest+atividades+de+portugues+2

		e Português.		- Ligue os pontos e forme o desenho.	coelhos. - Aprender o alfabeto de forma divertida.	+ano+pascoa&tbn=isch&ved=2ahUKEwJSwOn4-_nvAhViM7kGHTI3CJoQ2-cCeqQIABAA&oq=pinterest+atividades+de+portugues+2+ano+pascoa&gs_lcp=CgNpbWcQA1DFAVjFAWCF C2gAcAB4AIABAIqBAJIBAJqBAKA BAaoBC2d3cy13aXotaW1nwAEB&sclient=img&ei=TOZ0YNLqNOLm5OUPsu6g0Ak&bih=657&biw=1349&hl=pt-BR#imgrc=wfdXeOK6h3fyQM https://www.google.com/search?q=pinterest+atividades+de+portugues+2+ano+pascoa&tbn=isch&ved=2ahUKEwJSwOn4-_nvAhViM7kGHTI3CJoQ2-cCeqQIABAA&oq=pinterest+atividades+de+portugues+2+ano+pascoa&gs_lcp=CgNpbWcQA1DFAVjFAWCF C2gAcAB4AIABAIqBAJIBAJqBAKA BAaoBC2d3cy13aXotaW1nwAEB&sclient=img&ei=TOZ0YNLqNOLm5OUPsu6g0Ak&bih=657&biw=1349&hl=pt-BR#imgrc=0eG1OhVr59KXYM
Quarta-feira	28/04/2021	Português	4 horas	- Dengue. - Caça-palavras.	- Observar e imagem e responder corretamente. - Encontrar no caça-palavras os sintomas da Dengue.	https://www.google.com/search?q=pinterest+atividades+de+portugues+dengue&tbn=isch&ved=2ahUKEwin0pL9-_nvAhVVD7kGHQ7SD9cQ2-cCeqQIABAA&oq=pinterest+atividades+de+portugues+dengue&gs_lcp=CgNpbWcQAzoCAA6BggAEAgQHjoECAAQGFDNvUNY1N5DYMTTrQ2gAcAB4AYABzwSIAewmkgELMC41LjcuNC4xLjGYAQCgAQGgAQtd3Mtd2I6LWltZ8ABAQ&sclient=img&ei=VeZ0YKfUONW e5OUPjqS_uA0&bih=657&biw=1349&hl=pt-BR#imgrc=Tc8o08wtR2PvJUM https://www.google.com/search?q=pinterest+atividades+de+portugues+dengue&tbn=isch&ved=2ahUKEwin0pL9-_nvAhVVD7kGHQ7SD9cQ2-cCeqQIABAA&oq=pinterest+atividades+de+portugues+dengue&gs_lcp=CgNpbWcQAzoCAA6BggAEAgQHjoECAAQGFDNvUNY1N5DYMTTrQ2gAcAB4AYABzwSIAewmkgELMC41LjcuNC4xLjGYAQCgAQGgAQtd3Mtd2I6LWltZ8ABAQ&sclient=img&ei=VeZ0YKfUONW e5OUPjqS_uA0&bih=657&biw=1349&hl=pt-BR#imgrc=8A-85xoT7rK5SM
Quinta-feira	29/04/2021	Hora atividade				
Sexta-feira	30/04/2021	Português	4 Horas	- Ordem	- Reescrever as	https://www.google.com/search?q=pinterest+atividades+de+portugues&tbn=isch&ved=2ahUKEwin0pL9-_nvAhVVD7kGHQ7SD9cQ2-cCeqQIABAA&oq=pinterest+atividades+de+portugues&gs_lcp=CgNpbWcQAzoCAA6BggAEAgQHjoECAAQGFDNvUNY1N5DYMTTrQ2gAcAB4AYABzwSIAewmkgELMC41LjcuNC4xLjGYAQCgAQGgAQtd3Mtd2I6LWltZ8ABAQ&sclient=img&ei=VeZ0YKfUONW e5OUPjqS_uA0&bih=657&biw=1349&hl=pt-BR#imgrc=8A-85xoT7rK5SM

		Matemática		alfabética. - Circule os elementos com o número indicado.	palavras de cada grupo em ordem alfabética. - Observar o número indicado e circular os desenhos, também pode colorir.	 https://www.google.com/search?q=pinterest+atividades+de+matematica&tbm=isch&ved=2ahUKEwIP6LOSgPrvAhVQBbkGHRMIAIEQ2-cCeqQIABAA&og=pinterest+atividades+de+portugues&gs_lcp=CgNpbWcQAzICCAAYAggAMqIIADICCAAYBggAEAgQHjIECAAQGDIIECAAQGFcy3yBYhewqYLBxlGgAcAB4AIABvwalAdAWkgENMC4xLjAuMS4yLjEuMZgBAKABAaoBC2d3cy13aXotaW1nwAEB&scient=img&ei=tOp0YI--D9CK5OUPk8qliAU&bih=657&biw=1349&hl=pt-BR#imgrc=q-Ye8frdzsqAAM
Segunda-feira	03/05/2021	Português e Matemática	4 Horas	- Dengue. - Observar o desenho e calcular.	- Pintar o caminho que leva o Agente de saúde até o local onde não há risco de contaminação pela Dengue. - Observar e de forma divertida calcular e aprender sobre a dengue.	 https://www.google.com/search?q=pinterest+atividades+de+portugues+dengue&tbm=isch&ved=2ahUKEwi2pVPDg_rvAhXPNLkGHZtNAdcQ2-cCeqQIABAA&og=pinterest+atividades+de+portugues+dengue&gs_lcp=CgNpbWcQAzoECAAQZoCCAA6BggAEAgQHioECAAQGFdy3yZY6rQnYJa_J2qAcAB4AIABiqSIAf8xkgEMMC41LjE5LjAuMS4xmAEAoAEBqgELZ3dzLXdpei1pbWfAAQE&scient=img&ei=Qe50YPaBFs_p5OUPm5uFuA0&bih=657&biw=1349&hl=pt-BR#imgrc=rExuV3XW7jhY9M&imgdi=2qal8Ay4gUnzpM https://www.google.com/search?q=pinterest+atividades+de+matematica+dengue&tbm=isch&ved=2ahUKEwiRI_X7hfrvAhWbBbkGHSiGDsEQ2-cCeqQIABAA&og=pinterest+atividades+de+matematica+dengue&gs_lcp=CgNpbWcQA1CC_SFY4KciYmq3ImgAcAB4AIAB0gyIAAdM6kgERM4zLjQuMC4xLjluMC4xLjKYAQCgAQGgAQnd3Mtd2l6LWltZ8ABAQ&scient=img&ei=z_B0YNHzKpuL5OUPqly7jAw&bih=657&biw=1349&hl=pt-BR#imgrc=cKHcRt1LLh5esM

						es+de+portugues+alfabetiza%C3%A7%C3%A3o&gs_lcp=CgNpbWcQAzIECAAQGDolCAAQCBAHEB46AgAOgYIABAIEB46BggAEAUQHIDevUIYmuNJYLv1SWgAcAB4AYABuQOIAekekGKMC4xMS42LjEuMZgBAKABAoBC2d3cy13aXotaW1nwAEB&scient=img&ei=3_p0YKGaE8Xk5OUPrvWR8Ag&bih=657&biw=1349&hl=pt-BR#imgrc=q-DnOYtNLPqZM
Quinta-feira	06/05/2021	Hora atividade				
Sexta-feira	07/05/2021	Português Matemática	4 horas	- A flor Amarela. - Observe as imagens e responda as perguntas.	- Ler e circular na Poesia todas as palavras que rimam. - Observar as flores, somar e responder.	https://www.google.com/search?q=pinterest+atividades+de+portugues+alfabetiza%C3%A7%C3%A3o&tbm=isch&ved=2ahUKEwjhhYij_rvAhVFMrkGHa56BI4Q2-cCegQIABAA&oq=pinterest+atividades+de+portugues+alfabetiza%C3%A7%C3%A3o&gs_lcp=CgNpbWcQAzIECAAQGDolCAAQCBAHEB46AgAOgYIABAIEB46BggAEAUQHIDevUIYmuNJYLv1SWgAcAB4AYABuQOIAekekGKMC4xMS42LjEuMZgBAKABAoBC2d3cy13aXotaW1nwAEB&scient=img&ei=3_p0YKGaE8Xk5OUPrvWR8Ag&bih=657&biw=1349&hl=pt-BR#imgrc=m3153I-P8BNMPM https://www.google.com/search?q=pinterest+atividades+de+matematica+alfabetiza%C3%A7%C3%A3o&tbm=isch&ved=2ahUKEwjnxq-LIPrvAhXYBbkGHfIsB5YQ2-cCegQIABAA&oq=pinterest+atividades+de+matematica+alfabetiza%C3%A7%C3%A3o&gs_lcp=CgNpbWcQAzIGCAAQCBAeOggIABAIEAcQHjoCCAA6BggAEAUQHIC04F1Y0YJeYPqPXmgAcAB4AIBgAKIAY0akgEGMC4xNi4zmAEoAEBggELZ3dzLXdpei1pbWfAAQE&scient=img&ei=nv90YOf_DNiL5OUP8tmcsAk&bih=657&biw=1349&hl=pt-BR#imgrc=mhz2G9g1xzdyBM

ESCOLA MUNICIPAL DO CAMPO VITAL BRASIL – EIEF

PROFESSORA:

ISOLINA WALTER CORDEIRO

CLASSE ESPECIAL – 4º PROTOCOLO

ALUNO(A): _____


ATIVIDADES REMOTAS QUINZENAL

26/04/21 À 07/05/21

CAMPINA DO SIMÃO/PR



VAMOS RESOLVER A SUBTRAÇÃO



8
-4

9
-5

3
-0

6
-2

1
-1

7
-3

5
-4

4
-1

ESCOLA: _____

TURMA: _____ PROFESSOR(A): _____

EU SOU: _____



MEU BEM! COM A AJUDA DA MAMÃE, ESCREVA O VERDADEIRO SIGNIFICADO DA PÁScoa.

PESQUISA






Handwriting practice lines consisting of a dashed outer border and three solid horizontal lines.

0 1 2 3 4 5 6 7 8 9



QUANTOS COELHOS VOCÊ VÊ?

An empty square box for writing the answer.



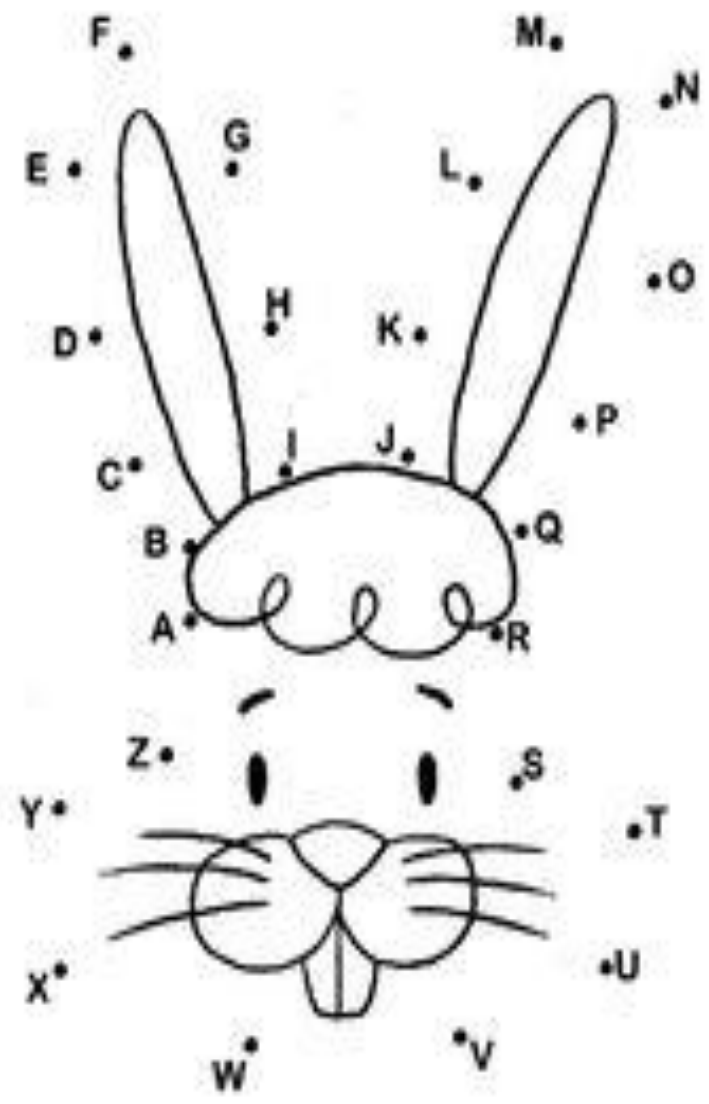
DOIS COELHOS.

CIRCULE 2 COELHOS.



Ideia Criativa

LIGUE OS PONTOS E DESCUBRA UM DOS SÍMBOLOS DA PÁSCOA





Escola: _____

Nome: _____

Ed. Infantil

Atividade Legal!

◆ OBSERVE A IMAGEM E MARQUE CORRETAMENTE:



◆ MÔNICA PERSEGUE ...

() UMA MOSCA

() UM MOSQUITO

◆ ESSE É O MOSQUITO AEDES AEGYPTI. ELE TRANSMITE...

() CÂNCER

() DENGUE

() GRIPE

◆ ENTRE OS SINTOMAS DA DENGUE ESTÃO ...

() FEBRE E DOR NO CORPO

() COCEIRA E FEBRE

Ideia Criativa-Gi Barbosa

Escola: _____


Data: _____

Turma: _____

ESCOLAEDUCACAO.COM.BR

Aluno: _____

CAÇA-PALAVRAS

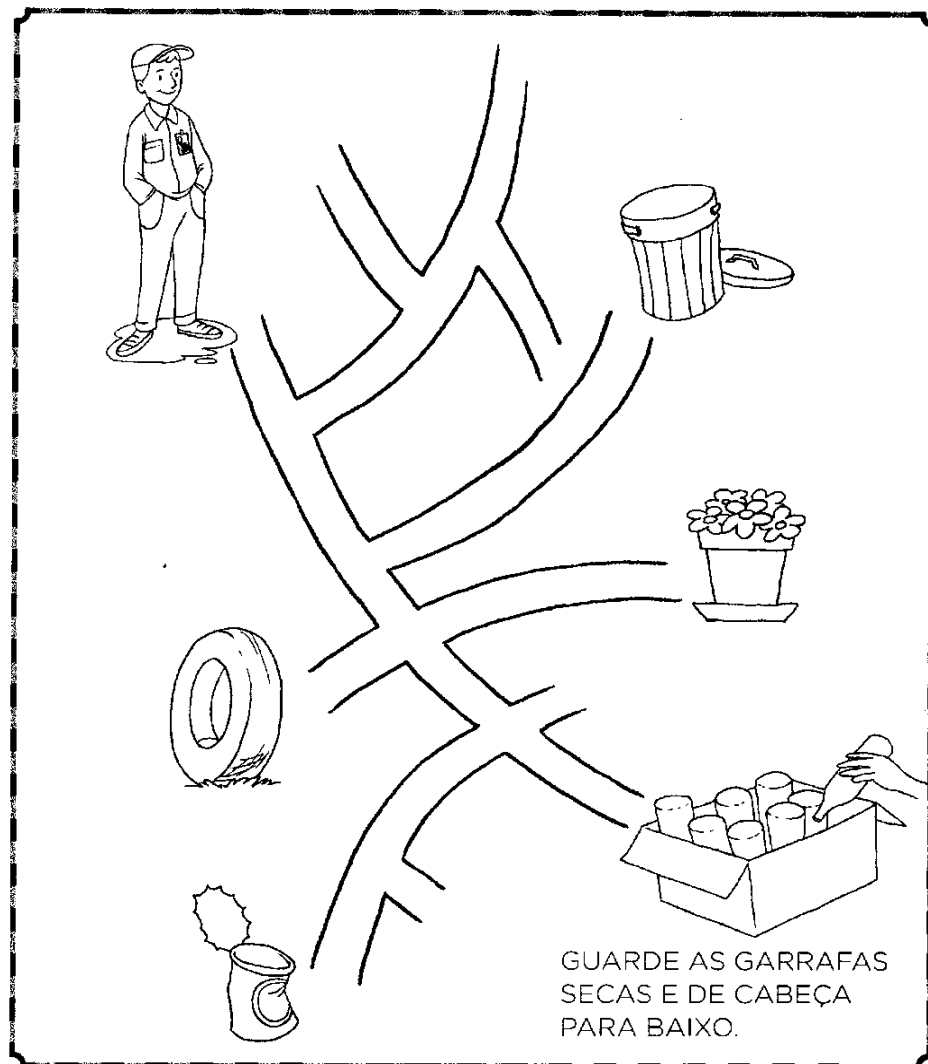


A dengue é um dos principais problemas de saúde do mundo. Procure no caça-palavras alguns dos sintomas da dengue, e lembre-se: em caso de suspeita, procure um médico.

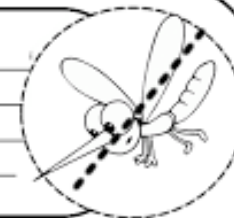
1. **FEBRE**
2. **VÔMITOS**
3. **ENJOOS**
4. **DOR DE CABEÇA**
5. **MANCHAS VERMELHAS**
6. **CANSAÇO**
7. **FRAQUEZA**
8. **DIARREIA**

V	U	N	Ô	E	E	J	Ê	S	H	L	A	E
U	I	O	E	I	Y	P	V	L	E	O	Z	E
L	T	D	O	R	D	E	C	A	B	E	Ç	A
B	O	X	V	X	Z	A	A	E	U	I	F	V
S	F	E	B	R	E	S	E	O	P	T	T	Ô
I	K	W	O	A	O	S	F	M	Z	D	A	M
R	X	Ç	É	C	A	N	S	A	Ç	O	D	I
E	E	Ç	J	R	L	B	N	N	Ô	Ç	I	T
I	Ç	F	O	J	U	F	G	C	R	Ô	A	O
U	Ô	U	I	Á	R	B	Ç	H	W	Ç	R	S
T	S	S	A	T	L	V	L	A	N	Q	R	Ô
J	I	Ç	E	N	J	O	O	S	O	D	E	A
S	J	O	E	O	S	A	P	V	A	O	I	F
E	I	L	Ç	F	R	A	Q	U	E	Z	A	A
J	A	S	T	A	M	I	A	O	X	J	C	U


PINTE O CAMINHO QUE LEVA O AGENTE DE SAÚDE AO LUGAR ONDE NÃO HÁ O RISCO DE PEGAR DENGUE.



ESCOLA: _____
 TURMA: _____ PROFESSOR(A): _____
 EU SOU: _____



1- OBSERVE COM ATENÇÃO A CENA ABAIXO E FAÇA O QUE SE PEDE:



2- MARQUE OS LOCAIS QUE SÃO FOCOS DE NASCIMENTO DO MOSQUITO DA DENGUE:

3- QUANTAS CRIANÇAS ESTÃO BRINCANDO?

4- QUANTOS BRINQUEDOS VOCÊ PODE VER?

5- HÁ QUANTOS ANIMAIS NA CENA?

6- QUANTOS MOSQUITOS?



Mistura de Alegria

M antes de P e B

Ligue e escreva as palavras:

RA _____

SA _____

LI _____

TA _____

SO _____

BO _____

CA _____

GA _____

JA _____

PO _____

BO _____

BA _____

BIGO _____

BOR _____

BRA _____

BOM _____

BOTA _____

BA _____

BO _____

























BA _____

ESCOLA: _____




TURMA: _____ DATA: ____ / ____ / ____

ALUNO: _____

QUANTOS SÃO?

Escola: _____

Data: _____ Turma: _____ ENSINOJA.COM

Aluno: _____

BETO, O BOM DE BOLA



PAULO, BETO E RENATO VÃO JOGAR BOLA.
BETO É O GOLEADOR DO TIME.
PAULO JOGA A BOLA PARA RENATO.
BETO PEDE A RENATO:
— AQUI, RENATO!
A BOLA CAI NO PÉ DE BETO.
BETO PÕE A BOLA NA REDE E FAZ UM BELO GOL.

Graça Boquet

1) QUEM VAI JOGAR BOLA?

2) DAS TRÊS CRIANÇAS, O GOLEADOR É:

PAULO. BETO. RENATO.

3) ONDE CAIU A BOLA QUE RENATO JOGOU?

NO PÉ DE PAULO. NO PÉ DE BETO.

ALUNO (A) _____

DATA ____/____/____.

DIAGNÓSTICA DE LÍNGUA PORTUGUESA - 1º ANO

1- ESCREVA SEU NOME COMPLETO

2- COMPLETE O ALFABETO

		C			G		
	K			M			
			V			Z	

3- COLOQUE A INICIAL DAS FIGURAS.

